

DRŽAVNO NATJECANJE IZ GEOGRAFIJE 2012. GODINE

Razred ili kategorija natjecanja: **6. razred**

Zaporka

| | | | | |
|--|--|--|--|--|
| | | | | |
|--|--|--|--|--|

Broj postignutih bodova _____ / **70**

Potpis članova povjerenstva

1. _____

2. _____

3. _____

Mjesto i nadnevak: _____

Za rješavanje zadataka predviđeno je 60 minuta.

Test se rješava kemijskom olovkom s plavom tintom koja se ne briše. Uporaba obične olovke i crvene ili neke druge boje tinte (osim plave) rezultira diskvalifikacijom učenika.

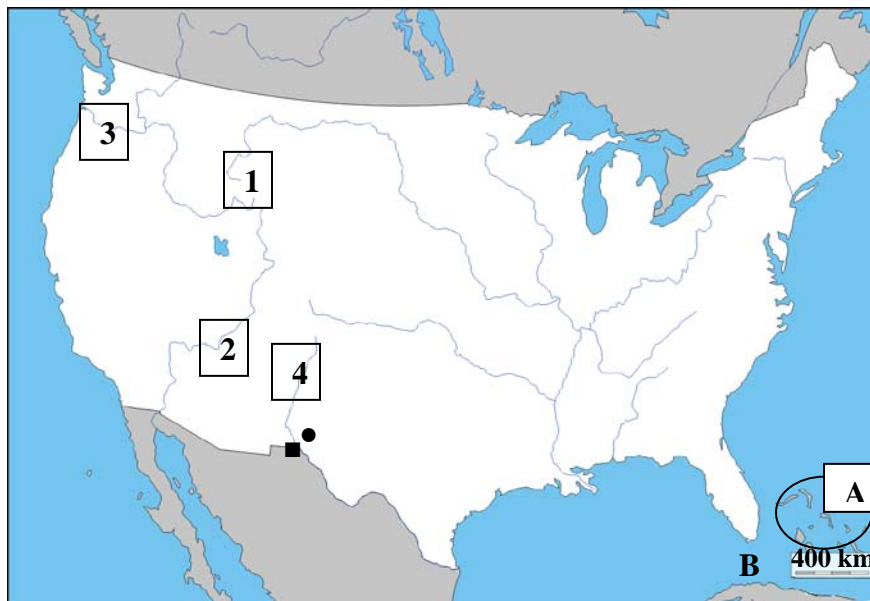
Pri rješavanju testa treba primijeniti jezičnu normu standardnoga hrvatskoga jezika, posebice treba poštivati pravopisna pravila o pisanju velikoga i maloga početnoga slova geografskih imena. Geografska imena čije je podrijetlo iz drugih (stranih) jezika moraju biti napisana u izvornom obliku (transkribirana na latinicu), npr. New York, Stuttgart, Loire...

Odgovori učenika moraju biti čitljivo napisani pisanim slovima (osim u zadacima u kojima je odgovor jedno slovo).

Za vrijeme testiranja ne smije se koristiti ništa osim navedenoga pribora za pisanje. Ova odredba podrazumijeva da natjecatelji ne smiju kod sebe (na sebi, ispod, u svojoj odjeći i slično) imati predmete koji na bilo koji način mogu dovesti u sumnju pravilno provođenje natjecanja. Učenici se ne smiju služiti atlasom, zidnom kartom ni računalom. Kartografski i grafički prilozi nužni za rješavanje zadataka sastavni su dio testa.

Potpuno ispravno riješeni zadaci, prema uputi za rješavanje vrednuju se s jednim, dva ili tri boda. U djelomično ispravno riješenim zadacima boduju se ispravno riješene čestice, ako u njima nije bilo korekcije odgovora. Netočno riješeni zadaci i naknadno ispravljeni odgovori te odgovori koji su pisani tiskanim slovima ili kombinacijom tiskanih i pisanih slova ne vrednuju se.

SLJEDEĆIH PET ZADATKA RIJEŠI UZ POMOĆ PRILOŽENIH FOTOGRAFIJA I GEOGRAFSKE KARTE SAD-a.



2 1. U kvadratiće uz fotografije prirodnih ljepota SAD-a upiši brojke s karte koje predstavljaju nacionalni park u kojem se one nalaze. (dviije brojke su višak)



2 2. Ime nacionalnog parka na fotografiji gore lijevo je _____.
Ime nacionalnog parka na fotografiji gore desno je _____.

2 3. Brojkom 2 na karti je označena rijeka _____, a brojkom 4 na karti je označena rijeka _____.

2 4. Slovom A na karti su prikazani _____ otoci, a slovom B na karti je prikazan _____ prolaz.

3 5. U graničnom prostoru SAD-a i _____ (upiši ime države) nastali su dvojni gradovi. Crni kružić na karti u SAD-u prikazuje grad _____, a crnim kvadratićem na karti prikazan je grad _____ (upiši imena gradova).

SLJEDEĆA DVA ZADATKA RIJEŠI UZ POMOĆ PRILOŽENIH FOTOGRAFIJA.

3 6. U prvi red tablice, ispod fotografija, upiši jedan od ponuđenih naziva biljaka: baobab, eukaliptus, javor, sekvoja (jedan je naziv višak), a u drugi red tablice upiši puni naziv toplinskog pojasa u kojem su fotografirane biljke najviše rasprostranjene.



| | | | |
|-----------------|--|--|--|
| Naziv biljke | | | |
| Toplinski pojas | | | |

3 7. Na crtu ispod fotografija upiši ime jedne od navedenih država u kojima su snimljene: Argentina, Australija, Brazil, Indija, Meksiko, Ruanda.

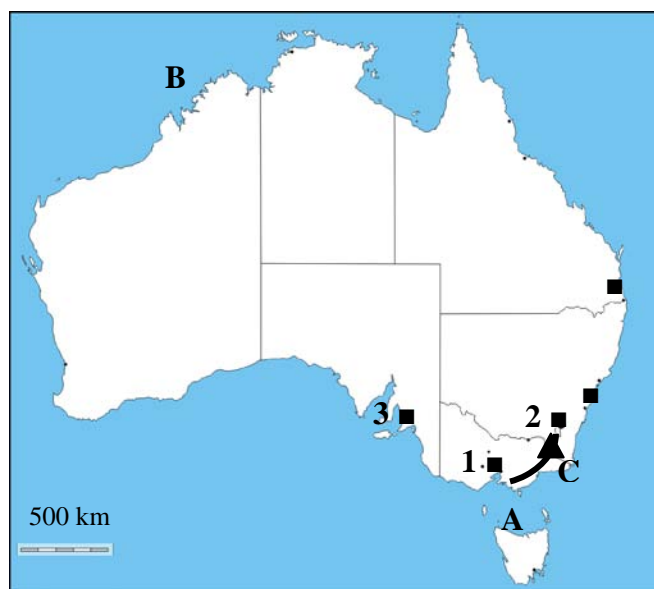


U SLJEDEĆA TRI ZADATKA SAMO JE JEDAN TOČAN ODGOVOR. ZAOKRUŽI SLOVO ISPRED TOČNOG ODGOVORA.

- 1** 8. Koja je od navedenih osoba sadašnji glavni tajnik UN-a?
 a) Kofi Annan b) Jose Manuel Barroso c) Ban Ki Moon d) Barack Obama
- 1** 9. Koji od navedenih otoka pripada Polineziji?
 a) Fiji b) Guam c) Nauru d) Tahiti
- 1** 10. Kojom od navedenih vrsta prometa se danas prevozi najviše putnika unutar Indije?
 a) cestovnim b) riječnim c) zračnim d) željezničkim

SLJEDEĆA ČETIRI ZADATKA RIJEŠI UZ POMOĆ PRILOŽENE GEOGRAFSKE KARTE AUSTRALIJE.

- 3** 11. Na crte uz brojeve upiši imena australskih gradova označenih na karti crnim kvadratićima.
 1 - _____
 2 - _____
 3 - _____



- 2** 12. Ime morskog prolaza na karti označenog slovom **A** je _____ prolaz, a ime mora na karti označenog slovom **B** je _____ more.

- 2** 13. Ime planine označene na karti slovom **C** i crnom crtom je _____, a ime njezinog najvišeg vrha označenog trokutom je _____.

- 1** 14. Kosim crtama u cijelosti ispuni na karti australsku državu u kojoj se nalazi najdublja depresija Australije.

SLJEDEĆA DVA ZADATKA RIJEŠI UZ POMOĆ PRILOŽENE TABLICE.

- 3** 15. Navedene bročane podatke o stopi rodnosti i stopi smrtnosti u promilima za 2009. godinu poveži sa državama u tablici i upiši ih u odgovarajuće polje u tablici (jedan podatak je višak):
2,2; 8,1; 18,6; 46,1

| | Australija | Argentina | USA | Burkina Faso |
|---------------------|------------|-----------|-----|--------------|
| Stopa rodnosti u ‰ | 13,5 | | 14 | |
| Stopa smrtnosti u ‰ | 6,4 | 7,6 | | 11,9 |

- 1** 16. Od država iz tablice najveću stopu prirodne promjene ima _____.

Prostor za računanje

U SLJEDEĆA TRI ZADATKA POVEŽI DESNI STUPAC S LIJEVIM UPISIVANJEM SLOVA NA CRTU ISPRED POJMOVA U LIJEVOM STUPCU. JEDNO JE SLOVO VIŠAK.

- 2** 17. Navedena objašnjenja pridruži pripadajućim nazivima.
- | | |
|-----------------------|---|
| _____ llanos (ljanos) | A) naziv za savane u Brazilu |
| _____ campos (kampos) | B) prašume u području Amazone |
| _____ pampas | C) travnate stepe Sjeverne Amerike |
| _____ selvas | D) naziv za savane u Venezueli |
| | E) travnate stepe Argentine |
- 2** 18. Navedene jezike pridruži državama u kojima su službeni.
- | | |
|----------------|-----------------------|
| _____ Angola | A) engleski |
| _____ DR Kongo | B) francuski |
| _____ Gana | C) portugalski |
| _____ Meksiko | D) španjolski |
| | E) talijanski |
- 2** 19. Navedene gradove pridruži otocima i poluotocima na kojima se nalaze.
- | | |
|----------------|---------------------|
| _____ Florida | A) Honolulu |
| _____ Hokkaido | B) La Habana |
| _____ Kuba | C) Merida |
| _____ Yucatan | D) Miami |
| | E) Sapporo |

SLJEDEĆA TRI ZADATKA RIJEŠI UZ POMOĆ PRILOŽENE KARTE DIJELA JUŽNE AMERIKE.

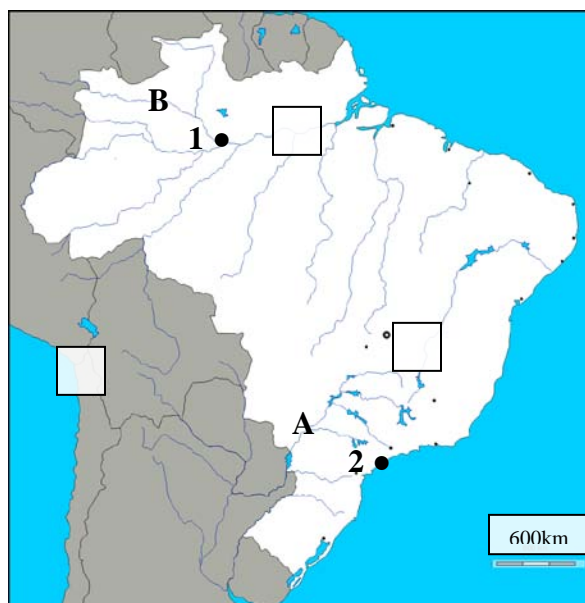
- 2** 20. U kvadratić na karti koji se nalazi u području jednog od geološki najstarijeg dijela Južne Amerike upiši slovo **X** (dva kvadratića su višak). Ime te reljefne cjeline je

_____.

- 2** 21. Ime rijeke na karti označene slovom **A** je _____, a ime rijeke označene na karti slovom **B** je _____.

- 2** 22. Brojem **1** na karti je označen grad _____ koji se počinje razvijati

paralelno s iskorištavanjem kaučukovca, a brojem **2** na karti je prikazana brazilska luka važna za izvoz kave _____ (na crte upiši imena gradova).



U SVAKOM OD SLJEDEĆA ČETIRI ZADATKA DVA SU ODGOVORA TOČNA. ZAOKRUŽI SLOVA ISPRED TOČNIH ODGOVORA.

2 23. Koja od navedenih jezera pripadaju Kanadi?
 a) j. Michigan b) j. Nicaragua c) Veliko medvjede j. d) Veliko slano j. e) j. Winnipeg

2 24. Koje su od navedenih osoba istraživale Afriku?
 a) J. Cook b) D. Lerman c) D. Livingstone d) R. E. Peary e) R. F. Scott

2 25. Koje od navedenih morskih struja utječu na nastanak pustinja?
 a) Brazilska b) Golfska c) Humboldtova d) Južna ekvatorska e) Kalifornijska

2 26. Koja od navedenih reljefnih područja danas nastaju podvlačenjem litosfernih ploča?
 a) Ande b) Appalachian c) Himalaja d) Tibesti e) Ural

SLJEDEĆA DVA ZADATKA RIJEŠI UZ POMOĆ PRILOŽENE TABLICE.

2 27. Zaokruži slova ispred dviju točnih tvrdnji o La Pazu.

- a) Najviše padalina padne u svibnju.
- b) Nalazi se u žarkom toplinskom pojasu.
- c) Glavni je grad Kolumbije.
- d) Nalazi se na nadmorskoj visini višoj od 3 000 m.
- e) Službeni jezik države u kojoj se nalazi je portugalski.

1 28. Uz pomoć podataka iz tablice i temperaturne amplitude La Paza koja iznosi 4,1 °C izračunaj srednju mjesečnu temperaturu najtoplijeg mjeseca i upiši ju na odgovarajuće mjesto u tablici.

| La Paz | S | V | O | T | S | L | S | K | R | L | S | P |
|------------------|-----|-----|------|------|----|------|------|------|----|------|-----|-----|
| Temperatura u °C | 8,1 | 9,3 | 10,4 | 11,7 | | 11,7 | 11,2 | 10,9 | 11 | 10,8 | 9,7 | 8,3 |
| Padaline u mm | 6 | 8 | 35 | 37 | 49 | 89 | 120 | 98 | 72 | 27 | 14 | 3 |

Prostor za računanje

**SLJEDEĆI ZADATAK RIJEŠI UZ POMOĆ PRILOŽENE KARTE
 DIJELA AMERIKE.**

2 29. Ime savezne države SAD-a na karti desno označene brojem 1 je _____, a SAD su je kupile od _____ (upiši ime države).



U SLJEDEĆIH PET ZADATAKA POVEŽI PAROVE UPISIVANJEM SLOVA NA CRTU ISPRED PONUĐENIH ODGOVORA. TRI CRTE MORAJU OSTATI PRAZNE.

2 30. Navedena središta filmske industrije pridruži gradovima u kojima se nalaze.
A) Bollywood **B) Hollywood**
 ___ Bangalore ___ Los Angeles ___ Mumbai ___ New York ___ San Francisco

2 31. Navedena prirodna bogatstva pridruži državama u kojima se danas značajno iskorištavaju.
A) dijamanti **B) srebro**
 ___ Alžir ___ Japan ___ JAR ___ Meksiko ___ Nigerija

2 32. Navedena objašnjenja pridruži odgovarajućim narodima.
A) nekadašnji Indijanci u Andama **B) pratioci i vodiči po Himalaji**
 ___ Asteci ___ Maje ___ Inke ___ Sani ___ Šerpe

2 33. Navedena obilježja pridruži imenima odgovarajućih kineskih gradova.
A) glavna luka **B) britanska kolonija do 1997.godine**
 ___ Harbin ___ Hong Kong ___ Macao ___ Shenyang ___ Shanghai

2 34. Navedene religije pridruži državama u kojima su dominantne.
A) budizam **B) kršćanstvo**
 ___ Butan ___ Čile ___ Nepal ___ Pakistan ___ Tunis

U SLJEDEĆEM ZADATKU TRI SU POGREŠNA POJMA. ZAOKRUŽI IH U TEKSTU, UPIŠI NA OZNAČENO MJESTO U TABLICI TE NA OZNAČENO MJESTO UPIŠI TOČNE POJMOVE.

3 35. Pažljivo pročitaj tekst o NATO-u i riješi zadatak prema uputi.
NATO je Sjevernoindijski vojno-politički savez. Ta danas vrlo važna organizacija utemeljena je 1949. godine kako bi spriječila širenje komunizma na zapad. Republika Hrvatska članica je NATO-a od 2007. godine. Sjedište NATO-a i UN-a je u Bruxellesu.

| POGREŠAN POJAM | TOČAN POJAM |
|----------------|-------------|
| | |
| | |
| | |