

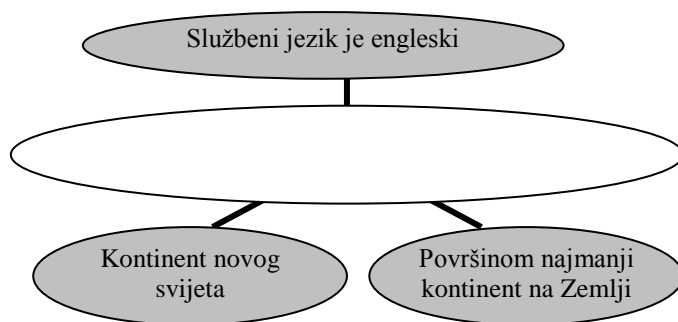
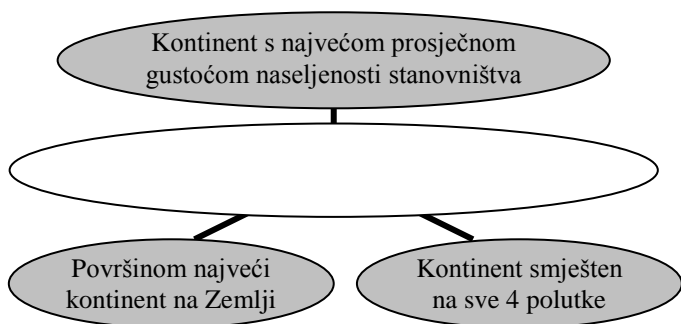
ŠKOLSKO/OPĆINSKO/GRADSKO NATJECANJE UČENIKA IZ GEOGRAFIJE 2011. GODINE
6. RAZRED

Zaporka _____

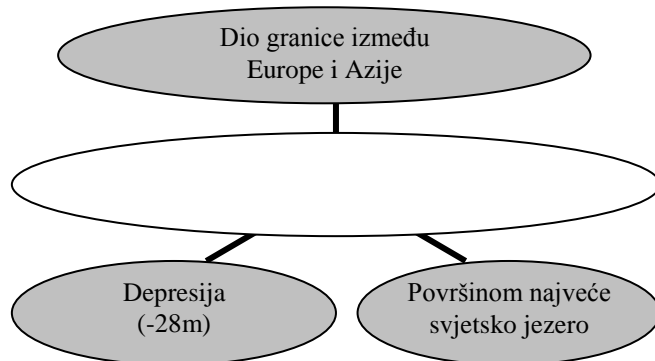
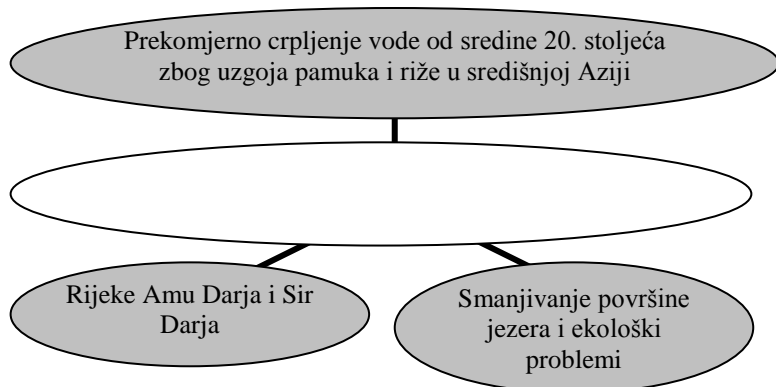
Bodovi _____

SLJEDEĆA DVA ZADATKA RIJEŠI UPISIVANJEM TRAŽENIH POJMOVA U PRAZNO
POLJE ORGANIZACIJSKOG DIJAGRAMA.

- 2 1. U prazno polje upiši **naziv kontinenta** koji odgovara **svim obilježjima** navedenim u sivim poljima.



- 2 2. U prazno polje upiši **naziv azijskog jezera** koji odgovara **svim obilježjima** navedenim u sivim poljima.



U SLJEDEĆA TRI ZADATAKA DOPUNI REČENICE.

- 2 3. Djelatnost prijevoza ljudi i materijalnih dobara te prijenosa energije, kapitala i informacija naziva se _____.
Ta djelatnost pripada u _____ sektor djelatnosti.

- 3 4. Države članice skupine G-8 su: Sjedinjene Američke Države, _____, Japan, Rusija, Ujedinjeno Kraljevstvo, _____, Italija i _____.

- 3 5. Na linije uz objašnjenja **međunarodnih organizacija** upiši njihovu **kraticu**.

- Organizacija UN-a čiji se rad zasniva na Konvenciji o pravima djeteta - _____
- Organizacija UN-a čiji je cilj postizanje najveće moguće razine zdravlja za sve ljude na Zemlji - _____
- Vojno-obrambeni savez koji čine 2 sjevernoameričke i 26 europskih država, među kojima je i Hrvatska od travnja 2009. godine - _____

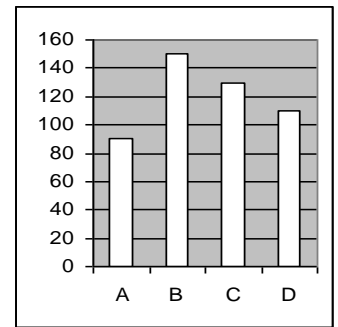
SLJEDEĆIH OSAM ZADATAKA RIJEŠI UZ POMOĆ PRILOŽENIH FOTOGRAFIJA,
GEOGRAFSKIH KARATA I GRAFIKONA.

2 6. Tajland ima površinu od 500 000 km² i 65 000 000 stanovnika.

prostor za računanje

Izračunaj prosječnu gustoću naseljenosti Tajlanda.

- **Prosječna gustoća naseljenosti** Tajlanda iznosi _____.
- **Zatamni (ispuni) stupac u grafikonu** koji prikazuje prosječnu gustoću naseljenosti Tajlanda.



3 7. Na fotografiji je **omanski sultan** Qaboos bin Said Al Said. Na **linije** upiši njegovu **rasu**, **jezičnu** i **vjersku** pripadnost.

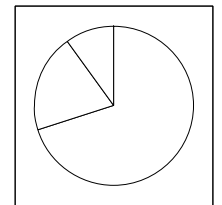
rasa - _____ jezik - _____
vjera (religija) - _____



3 8. **Grafikon** prikazuje udjele zaposlenih po sektorima djelatnosti za **visoko razvijenu državu**.

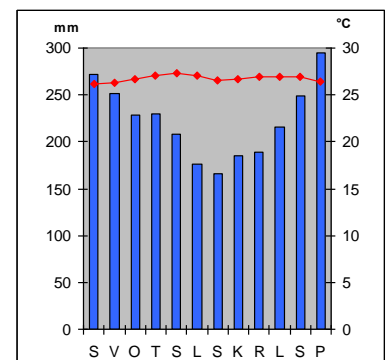
- **Upiši broj 1** u dio grafikona koji predstavlja udio **tercijarnih** djelatnosti.
- **Zatamni (ispuni)** dio grafikona koji predstavlja udio **primarnih** djelatnosti.
- **Zaokruži slovo** uz visoko razvijenu azijsku državu:

a) Bangladeš b) Južna Koreja c) Indija d) Iran



3 9. Promotri klimatski dijagram i dopuni rečenice upisivanjem **naziva mjeseca** i **tipa klime**.

- **Mjesec** s najviše padalina - _____
- **Mjesec** s najmanje padalina - _____
- **Tip klime** - _____ klima



2 10. Zaokruži slova uz **dvije azijske države** koja imaju tip klime prikazan na klimatskom dijagramu:

a) Izrael b) Singapur c) Južna Koreja d) Indonezija

e) Iran

2 11. **Biljni pokrov** prikazan na fotografiji zove se _____.

Zaokruži slovo uz dio Azije u kojem je taj biljni pokrov **najzastupljeniji**:

a) Dekan b) Sibir c) Tibet d) Mezopotamija



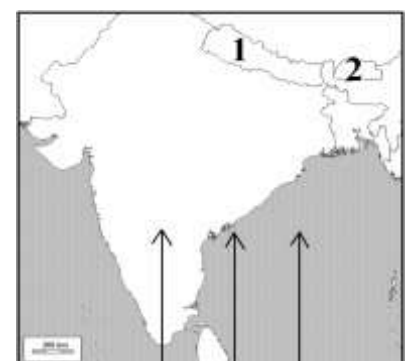
2 12. Promotri priloženu kartu i **precrtaj dva netočna navoda** koji su napisani **kosim slovima**.

Strelice na karti prikazuju smjer puhanja **ljetnog** / **zimskog** monsuna.

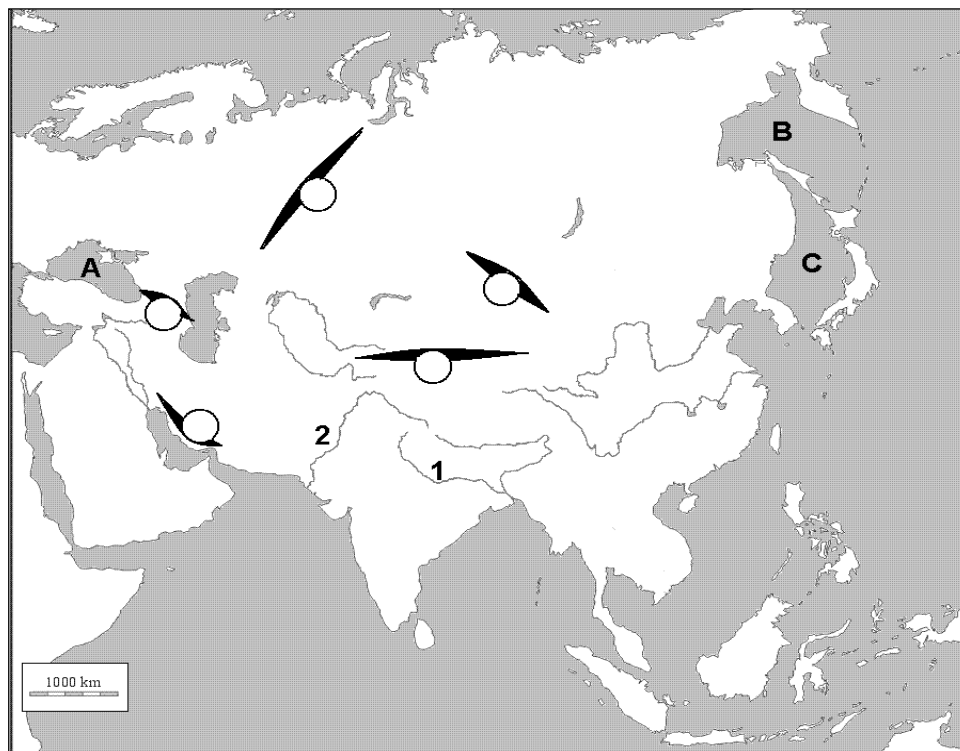
Takav tip monsuna je **hladan i suh** / **topao i vlažan**.

2 13. Brojevima na karti označene su **azijske države**:

1 - _____
2 - _____



**SLJEDEĆA ČETIRI
ZADATKA RIJEŠI UZ
POMOĆ PRILOŽENE
GEOGRAFSKE
KARTE AZIJE.**



2 **14.** Na karti upiši **zadana slova** u prostor **azijskog otoka i poluotoka**:

S - Sulawesi (Celebes)

M - Malajski poluotok

2 **15.** Brojevi na karti označavaju **azijske rijeke**:

1 - _____ **2** - _____

3 **16.** Slova na karti označavaju **mora**:

A - _____ **B** - _____ **C** - _____

3 **17.** U kružice na karti upiši slova za **azijska gorja** (dva kružica su višak):

I - Iransko gorje

T - Tjan Šan

U - Ural

**U SLJEDEĆA ČETIRI ZADATKA POVEŽI PAROVE UPISIVANJEM SLOVA NA CRTU
ISPRED PONUĐENIH ODGOVORA. TRI CRTE MORAJU OSTATI PRAZNE.**

2 **18.** Navedene **organizacije** pridruži **gradovima** u kojima se nalazi njihovo sjedište.

A) UNESCO

B) EU

___ London

___ Bruxelles

___ Madrid

___ Pariz

___ Berlin

2 **19.** Navedene **geografske položaje pustinja** pridruži **nazivima pustinja**.

A) pustinja na jugu Turanske nizine

B) pustinja smještena u Tarimskoj zavali

___ Karakum

___ Gobi

___ Kizilkum

___ Thar

___ Takla Makan

2 **20.** Navedene **opise životinja** pridruži nazivima **životinja** važnih za Aziju.

A) sveta životinja u Indiji

B) dugodlako tibetsko govedo

___ slon

___ deva

___ jak

___ krava

___ panda

2 **21.** Navedena **obilježja indijskih gradova** pridruži **nazivima indijskih gradova**.

A) luka i industrijsko središte Bengala **B) industrijsko središte na Dekanu**

___ Varanasi

___ Bangalore

___ New Delhi

___ Mumbai

___ Kolkata

U SVAKOM OD SLJEDEĆA DVA ZADATKA TRI SU POGREŠNA POJMA. POTCRTAJ IH U TEKSTU, UPIŠI U TABLICU TE PORED NJIH NAPIŠI ISPRAVNE POJMOVE.

- 3** **22.** Pažljivo pročitaj tekst o **najvećoj dubini mora** i riješi zadatak kao što je napisano u naputku.

Dubokomorski jarci (brazde) su najdublji dijelovi svjetskog mora nastali na mjestu podvlačenja jedne litosferne ploče pod drugu. Najveća dubina mora na Zemlji iznosi 8 848 metara. Ta dubina je zabilježena u Filipinskom jarku koji je smješten u Indijskom oceanu.

| POGREŠAN POJAM | ISPRAVAN POJAM |
|----------------|----------------|
| | |
| | |
| | |

- 3** **23.** Pažljivo pročitaj tekst o **nafti** i riješi zadatak kao što je napisano u naputku.

Nafta je tamna tekućina koja pripada u obnovljive izvore energije i služi za proizvodnju širokog spektra proizvoda poput benzina i plastike. Najveće svjetske zalihe nafte nalaze se u Bengalskom zaljevu, a država koja je najveći svjetski izvoznik nafte je Indija.

| POGREŠAN POJAM | ISPRAVAN POJAM |
|----------------|----------------|
| | |
| | |
| | |

U SVAKOM OD SLJEDEĆA ČETIRI ZADATKA DVA SU ODGOVORA TOČNA. ZAOKRUŽI SLOVA UZ TOČNE ODGOVORE.

- 2** **24.** Među navedenima, **države** kojima je službeni jezik **španjolski** su:
 a) Kanada b) Brazil c) Meksiko d) Čile e) Egipat
- 2** **25.** Među navedenima, **prastara visočja Azije** su:
 a) Dekan b) Hindukuš c) Toros (Taurus) d) Hindustan e) Arabija
- 2** **26.** Među navedenima, **države** koje se nalaze u **monsunskoj Aziji** su:
 a) Vijetnam b) Irak c) Šri Lanka d) Afganistan e) Mongolija
- 2** **27.** Među navedenim gradovima, **japanske morske luke** su:
 a) Manila b) Yokohama c) Jakarta d) Chiba e) Dhaka

SLJEDEĆA TRI ZADATKA RIJEŠI UZ POMOĆ PRILOŽENE GEOGRAFSKE KARTE TURSKE.



- 2** **28.** Od navedenih turskih gradova, **najzapadniji grad** je _____, a **najsjeverniji grad** je _____.
- 2** **29.** Republika Turska se smjestila _____ od ekvatora i _____ od početnog meridijana. (na linije upiši strane svijeta)
- 3** **30.** Brojevi na karti označavaju **morski prolaz i mora**:
 1 - _____ (morski prolaz) 2 - _____ (more)
 3 - _____ (more)