

**ŽUPANIJSKO NATJECANJE UČENIKA IZ GEOGRAFIJE 2011. GODINE  
6. RAZRED**

Zaporka \_\_\_\_\_

Bodovi \_\_\_\_\_

**SLJEDEĆIH PET ZADATAKA RIJEŠI UZ POMOĆ PRILOŽENE TABLICE ILI GRAFIKONA.**

**3** 1. Zadatak riješi uz pomoć priloženog grafikona **stopa rodnosti** (bijeli stupci) i **stopa smrtnosti** (crni stupci) za Južnu Afriku.

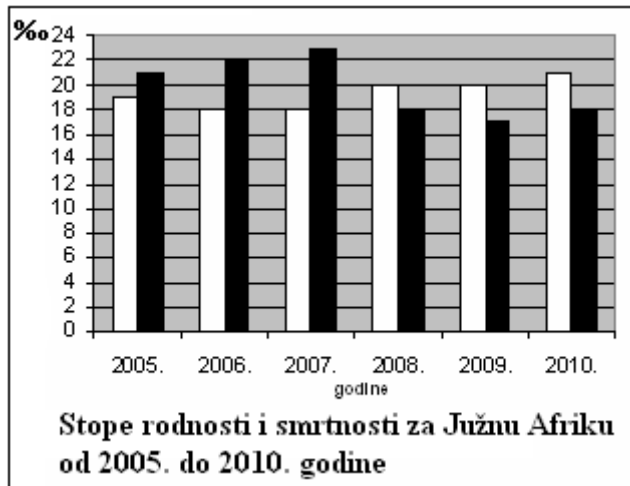
• **Stopa prirodne promjene za 2006. godinu** iznosi:

\_\_\_\_\_

• Na liniju napiši **godinu** kad je zabilježena:

najveća stopa rodnosti - \_\_\_\_\_

najveći prirodni pad - \_\_\_\_\_



**2** 2. Analiziraj tablicu i odgovori.

Na linije upiši **naziv djelatnosti** koja ima:

• najveći udio u BDP-u -

\_\_\_\_\_

• najveći udio u zaposlenom stanovništvu -

\_\_\_\_\_

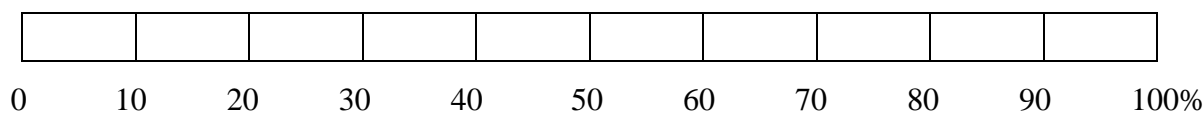
DJELATNOSTI	UDIO U ZAPOSLENOM STANOVNIŠTVU (%)	UDIO U BDP-u (%)
bankarstvo	4,1	7,3
građevinarstvo	5,4	7,2
industrija	11,2	9,0
poljoprivreda	8,2	11,1
promet	8,3	6,6
ribarstvo	2,9	2,5
rudarstvo	3,4	5,8
šumarstvo	1,9	1,4
trgovina	26,3	18,8
turizam	18,7	25,1
ugostiteljstvo	5,7	2,8
uslužni obrti	3,9	2,4

**2** 3. Analiziraj tablicu i odgovori.

• Izračunaj udio u BDP-u djelatnosti **primarnog** sektora. \_\_\_\_\_%

• Na priloženom grafikonu zatamni (ispuni) udio u zaposlenom stanovništvu u **sekundarnom** sektoru.

Prostor za računanje



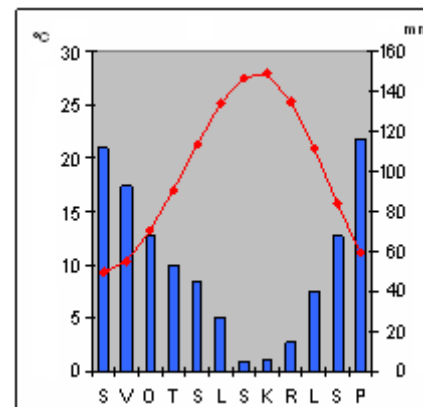
**3** 4. Analiziraj klimatski dijagram i dopuni rečenice upisivanjem **godišnjeg doba i tipa klime.**

• **Godišnje doba** s najviše padalina - \_\_\_\_\_

• **Godišnje doba** s najmanje padalina - \_\_\_\_\_

• **Tip klime** - \_\_\_\_\_ klima

**2** 5. Zaokruži slova uz **dvije azijske države** u kojima je zastupljen tip klime prikazan na klimatskom dijagramu:



a) Turska

b) Ujedinjeni Arapski Emirati

c) Filipini

d) Afganistan

e) Izrael

**U SVAKOM OD SLJEDEĆA ČETIRI ZADATKA DVA SU ODGOVORA TOČNA.  
ZAOKRUŽI SLOVA UZ TOČNE ODGOVORE.**

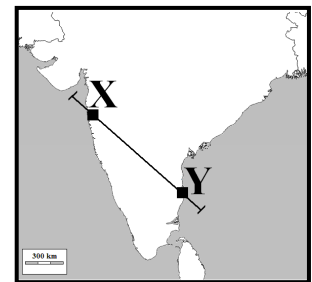
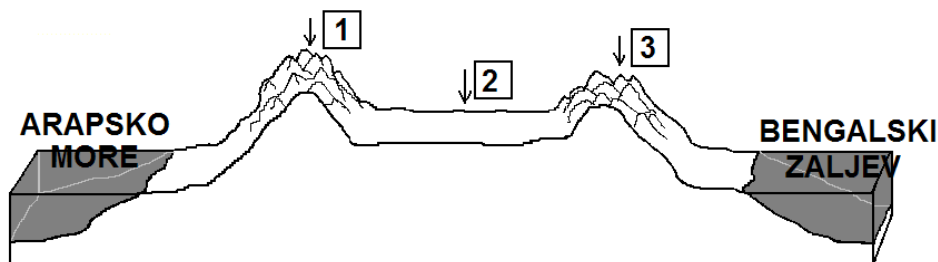
**2**  **6.** Među navedenim rijekama, u **Zapadnosibirskoj nizini** se nalaze:  
 a) Jenisej      b) Lena      c) Amur      d) Ob      e) Amu Darja

**2**  **7.** Među navedenim afričkim rijekama, **slijeću Indijskog oceana** pripadaju:  
 a) Niger      b) Kongo      c) Zambezi      d) Oranje      e) Limpopo

**2**  **8.** Među navedenim afričkim gradovima, **marokanski gradovi** koji se nalaze na UNESCO-vom popisu svjetske baštine zbog očuvane islamske arhitekture su:  
 a) Asuan      b) Fes      c) Kartaga      d) Marrakech      e) Luxor

**2**  **9.** Među navedenim gradovima Južne Afrike, u **Witwatersrandu** se nalaze:  
 a) Cape Town      b) Durban      c) Tswane (Pretoria)      d) Johannesburg      e) Port Elizabeth

**SLJEDEĆA DVA ZADATKA RIJEŠI UZ POMOĆ RELJEFNOG PRESJEKA I KARTE INDIJE.**



**3**  **10.** Na linije upiši pune nazive **reljefnih cjelina Indije** koje su na presjeku označene **brojevima**:  
 1 - \_\_\_\_\_ 2 - \_\_\_\_\_ 3 - \_\_\_\_\_

**2**  **11.** Na priloženoj **geografskoj karti Indije** kvadratićima i slovima X i Y označeni su milijunski gradovi:  
 X - \_\_\_\_\_ Y - \_\_\_\_\_

**SLJEDEĆA ČETIRI ZADATKA RIJEŠI UZ POMOĆ PRILOŽENE GEOGRAFSKE KARTE AFRIKE.**

**2**  **12.** Na karti upiši **zadana slova** u prostor **ovih geografskih pojmova**:

slovo M u Mozambički kanal      slovo N u Namib

**2**  **13.** Brojevi na karti označavaju **afričke uzvisine**:

1 - \_\_\_\_\_  
 2 - \_\_\_\_\_

**3**  **14.** Slova na karti označavaju **jezera**:

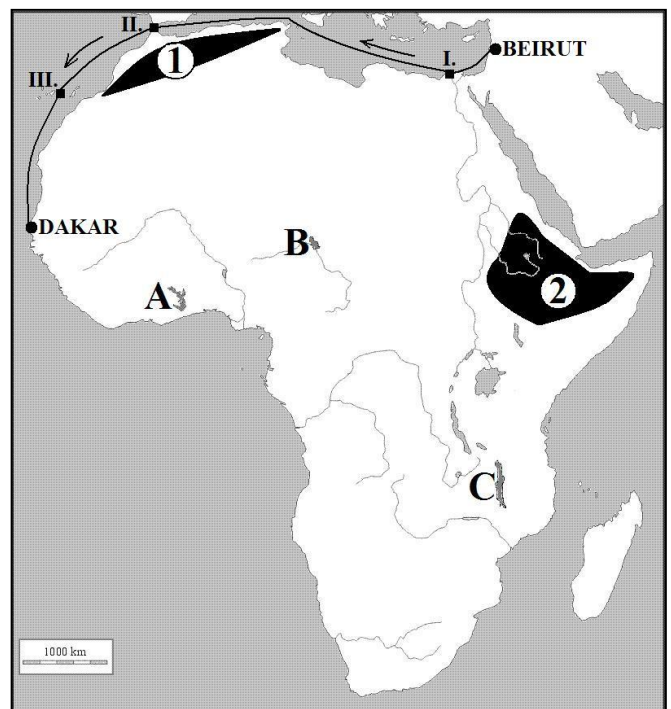
A - \_\_\_\_\_  
 B - \_\_\_\_\_  
 C - \_\_\_\_\_

**3**  **15.** Crna linija na karti predstavlja plovidbu

turističkog broda od **Beiruta** (glavni grad Libanona) do **Dakra** (glavni grad Senegala).

Na linije upiši **nazive destinacija** označenih **rimskim brojevima** na karti koje će turisti posjetiti:

I. - \_\_\_\_\_ (grad)      II. - \_\_\_\_\_ (morski prolaz)      III. - \_\_\_\_\_ (otočje)



U SVAKOM OD SLJEDEĆA DVA ZADATKA TRI SU POGREŠNA POJMA. PODCRTAJ IH U TEKSTU, UPIŠI U TABLICU TE PORED NJIH UPIŠI ISPRAVNE POJMOVE.

3 16. Pažljivo pročitaj tekst o **Mrtvom moru** i riješi zadatak kao što je napisano u naputku.

*Mrtvo more je najdublja svjetska depresija smještena u Jugoistočnoj Aziji. Mrtvo more je more velike slanoće i značajna azijska prirodna znamenitost koja privlači brojne turiste. U Mrtvo more utječe biblijski važna rijeka Eufrat.*

pogrešan pojam	ispravan pojam

3 17. Pažljivo pročitaj tekst o **rijeci Chang Jiang (Jangtze)** i riješi zadatak kao što je napisano u naputku.

*Rijeka Chang Jiang ili Žuta rijeka je najduža tekućica Kine. Ona izvire na Tibetu, najprostranijoj svjetskoj visoravni, a ulijeva se u Južno kinesko more. Na njenom ušću razvila se najveća kineska luka Xianggang.*

pogrešan pojam	ispravan pojam

U SLJEDEĆA ČETIRI ZADATKA POVEŽI PAROVE UPISIVANJEM SLOVA NA CRTU ISPRED PONUĐENIH ODGOVORA. TRI CRTE MORAJU OSTATI PRAZNE.

2 18. Navedene **geografske položaje planinskih lanaca** pridruži **nazivima planinskih lanaca**.

A) *Planinski lanac na jugu Male Azije*      B) *Planinski lanac smješten uz južni rub Kaspijskog jezera*  
 \_\_\_ Kavkaz      \_\_\_ Pamir      \_\_\_ Toros (Taurus)      \_\_\_ Karakorum      \_\_\_ Elburs

2 19. Navedena **objašnjenja** pridruži **osobitostima** Japana.

A) *Uzgajanje minijaturnog drveća*      B) *Tradicionalno japansko pjesništvo*  
 \_\_\_ ikebana      \_\_\_ haiku      \_\_\_ sudoku      \_\_\_ bonsai      \_\_\_ origami

2 20. Navedene **geografske položaje pustinja** pridruži **nazivima pustinja**.

A) *Egipatska pustinja između Nila i Crvenog mora*      B) *Egipatsko-sudanska pustinja između Nila i Crvenog mora*  
 \_\_\_ Namib      \_\_\_ Nubijska pustinja      \_\_\_ Kalahari      \_\_\_ Libijska pustinja      \_\_\_ Arapska pustinja

2 21. Navedena **obilježja afričkih gradova** pridruži **nazivima afričkih gradova**.

A) *Milijunski grad u Nigeriji*      B) *Milijunski grad u Egiptu*  
 \_\_\_ Al-Qahirah (Kairo)      \_\_\_ Lagos      \_\_\_ Kinshasa      \_\_\_ Accra      \_\_\_ Lusaka

SLJEDEĆA DVA ZADATKA RIJEŠI UZ POMOĆ PRILOŽENE GEOGRAFSKE KARTE JAPANA.

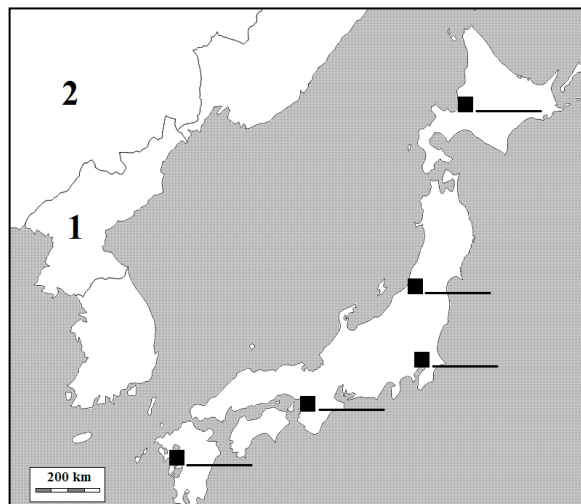
3 22. Na odgovarajuće linije uz crne kvadratiće na karti upiši slova za sljedeće **japanske gradove** (dvije linije su višak):

O - Osaka      S - Sapporo      T - Tokyo

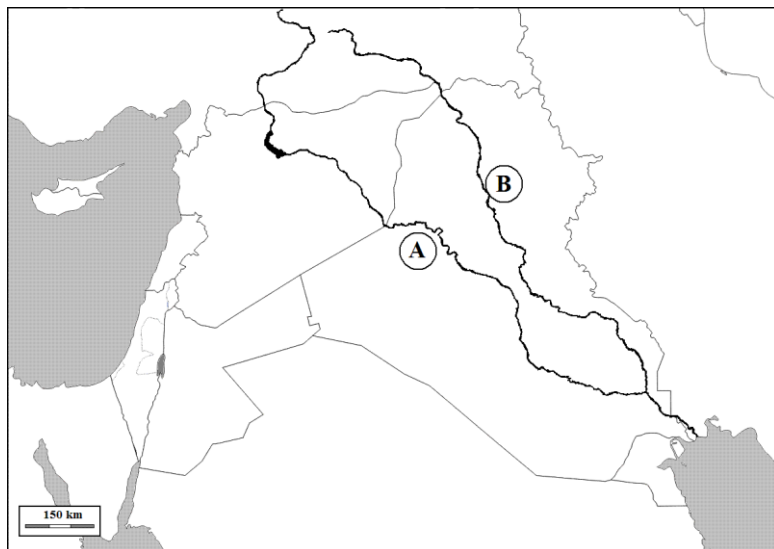
2 23. Brojevima na karti označene su **azijske države**:

1 - \_\_\_\_\_

2 - \_\_\_\_\_



**SLJEDEĆA TRI ZADATKA RIJEŠI UZ POMOĆ PRILOŽENE GEOGRAFSKE KARTE DIJELA JUGOZAPADNE AZIJE.**



**2** **24.** Slovicima na karti označene su rijeke:  
**A** - \_\_\_\_\_  
**B** - \_\_\_\_\_

**2** **25.** Prevladavajuća religija na prostoru Jugozapadne Azije je \_\_\_\_\_,  
 a najrasprostranjeniji jezik je \_\_\_\_\_.

**2** **26.** Na karti upiši broj **1** u **prostor države** u kojoj je najzastupljenija religija **židovstvo (judaizam)**.  
 Naziv te države je \_\_\_\_\_.

**U SLJEDEĆA DVA ZADATKA DOPUNI REČENICE.**

**3** **27.** Na linije uz **objašnjenja** upiši **nazive** mješanaca rasa.

- Mješanac **žute i bijele** rase - \_\_\_\_\_
- Mješanac **bijele i crne** rase - \_\_\_\_\_
- Mješanac **crne i žute** rase - \_\_\_\_\_


**3** **28.** Na svaku liniju uz **navedene svjetske jezike** upiši **slovo** ispred naziva jedne od pet navedenih država u kojoj je taj jezik **najzastupljeniji, a ujedno i službeni (dvije države su višak)**.

**Države:** A) *Meksiko*    B) *Brazil*    C) *Egipat*    D) *Novi Zeland*    E) *Obala Bjelokosti*

**engleski jezik** - \_\_\_\_\_    **francuski jezik** - \_\_\_\_\_    **španjolski jezik** - \_\_\_\_\_

**SLJEDEĆA DVA ZADATKA RIJEŠI UZ POMOĆ PRILOŽENIH FOTOGRAFIJA.**

**2** **29.** Fotografija prikazuje jednu od građevina grada uklesanog u stijene koji se nalazi na teritoriju današnje države Jordan. Grad se nalazi na UNESCO-vom popisu svjetske baštine i jedno je od sedam novih svjetskih čuda.



**Naziv grada:** \_\_\_\_\_

**Regija Azije** u kojoj je smješten taj kulturno-povijesni spomenik zove se \_\_\_\_\_ Azija.

**2** **30.** Fotografija prikazuje spomenik kojim je obilježena granica između Indijskog i Atlantskog oceana.



- **Afrička država** u kojoj se nalazi taj spomenik zove se \_\_\_\_\_.
- Jedini **kontinent**, osim Afrike, na kojem bi se mogao postaviti takav spomenik zove se \_\_\_\_\_.