

DRŽAVNO NATJECANJE UČENIKA IZ GEOGRAFIJE 2011. GODINE  
6. RAZRED

Zaporka      Bodovi \_\_\_\_\_

SLJEDEĆA TRI ZADATAKA RIJEŠI UZ POMOĆ PRILOŽENIH FOTOGRAFIJA  
ENDEMSKIH BILJAKA I ŽIVOTINJA.

- 2  1. Na fotografiji je prikazana **panda**. Na linije napiši **ime države** za koju je karakteristična te **naziv biljke** kojom se hrani.
- Ime države je \_\_\_\_\_
  - Naziv biljke je \_\_\_\_\_



- 2  2. Na fotografiji je prikazana **koala**. Na linije napiši **ime države** za koju je karakteristična te **naziv biljke** kojom se hrani.
- Ime države je \_\_\_\_\_
  - Naziv biljke je \_\_\_\_\_



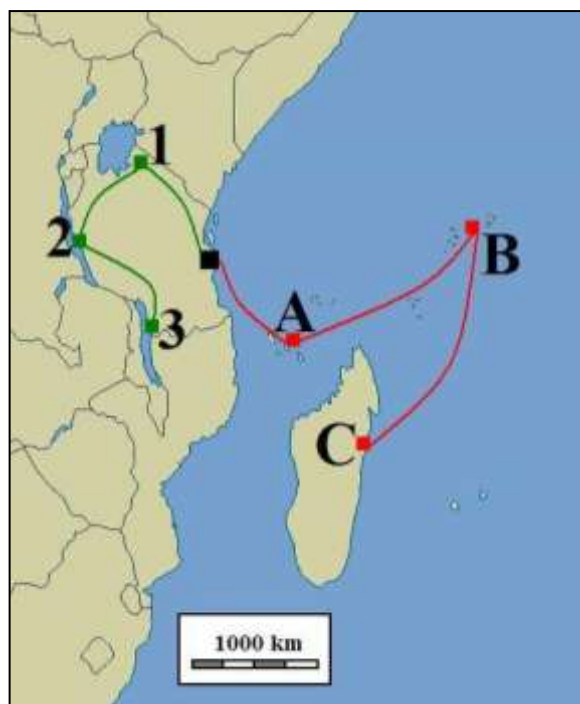
- 2  3. Na fotografiji je prikazana **žirafa**. Na linije napiši **ime kontinenta** za koji je karakteristična te **naziv biljke** kojom se hrani.
- Ime kontinenta je \_\_\_\_\_
  - Naziv biljke je \_\_\_\_\_



SLJEDEĆA DVA ZADATAKA RIJEŠI UZ POMOĆ  
PRILOŽENE GEOGRAFSKE KARTE DIJELA  
AFRIKE.

- U turizmu Afrike važnu ulogu imaju turistička putovanja iz tanzanijskog grada Dar es Salaama (označen crnim kvadratićem). Na karti su crvenom i zelenom bojom označena dva primjera turističkih putovanja.

- 3  4. Koja **dva otočja** i **otok** označavaju **slova** uz **crvenu liniju** na karti?
- A - otočje \_\_\_\_\_
- B - otočje \_\_\_\_\_
- C - otok \_\_\_\_\_



- 3  5. Koji **nacionalni park** i **dva jezera** označavaju **brojevi** uz **zelenu liniju** na karti?
- 1 - Nacionalni park \_\_\_\_\_

2 - jezero \_\_\_\_\_ 3 - jezero \_\_\_\_\_

**SLJEDEĆA ČETIRI ZADATKA RIJEŠI UZ POMOĆ PRILOŽENE GEOGRAFSKE KARTE DIJELA AZIJE.**

**3** **6. Koja azijska mora označavaju brojevi na karti?**

1 - \_\_\_\_\_

2 - \_\_\_\_\_

3 - \_\_\_\_\_

**3** **7. Koje azijske rijeke označavaju slova na karti?**

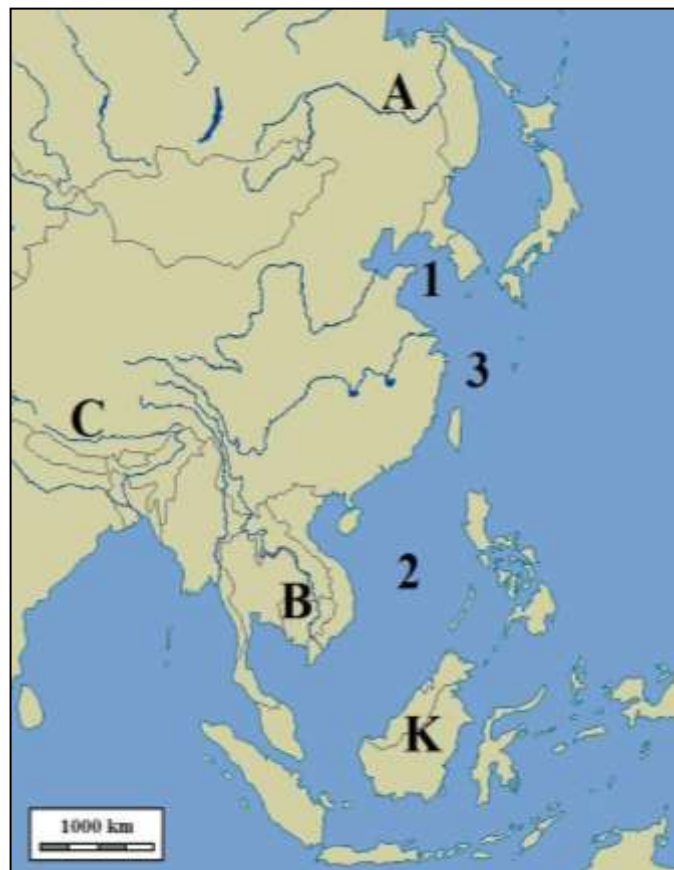
A - \_\_\_\_\_

B - \_\_\_\_\_

C - \_\_\_\_\_

**3** **8. Slovom K na karti označen je otok Kalimantan (Borneo). Njegov teritorij je podijeljen između tri države. To su:**

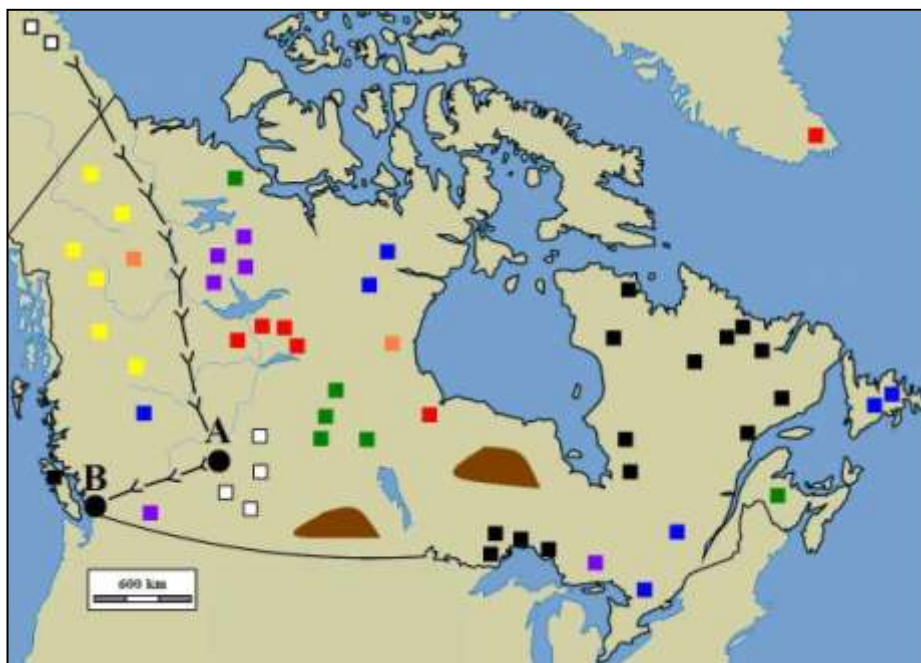
\_\_\_\_\_,  
\_\_\_\_\_,  
\_\_\_\_\_.



**2** **9. Na karti upiši zadana slova u prostor ovih azijskih otoka: slovo J u Javu; slovo L u Luzon**

**SLJEDEĆA TRI ZADATKA RIJEŠI UZ POMOĆ PRILOŽENE KARTE RUDNIH BOGATSTAVA KANADE.**

TUMAČ ZNAKOVA			
	željezo		srebro
	uran		platina
	zlato		nafta
	olovo		ugljen
	bakar		naftovod

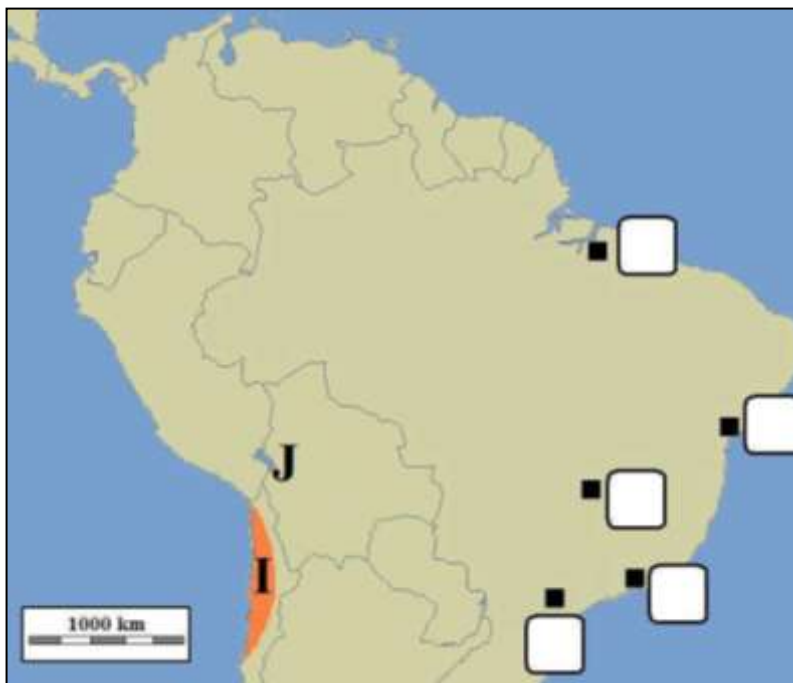


**2** **10. Najzastupljenije rudno bogatstvo na području između Velikog Medvjedeg jezera (Great Bear Lake) i Velikog Ropskog jezera (Great Slave Lake) je \_\_\_\_\_, a najzastupljenije rudno bogatstvo na otoku Newfoundland je \_\_\_\_\_.**

**2** **11. Najbrojnija kanadska nalazišta željezne rude smještena su na poluotoku \_\_\_\_\_ i na prostoru uz \_\_\_\_\_ jezero.**

**2** **12. Koje kanadske gradove povezane naftovodom označavaju crni kružići na karti?**  
A - \_\_\_\_\_ B - \_\_\_\_\_

**SLJEDEĆA TRI ZADATKA RIJEŠI UZ POMOĆ PRILOŽENE GEOGRAFSKE KARTE DIJELA JUŽNE AMERIKE.**



**2**  **13.** Slovom **I** i narančastom bojom na karti označena je pustinja

\_\_\_\_\_.

**Država** u kojoj je smještena pustinja zove se

**3**  **14.** Slovom **J** na karti je označeno jezero \_\_\_\_\_ koje je podijeljeno između dvije države. To su:

\_\_\_\_\_ i \_\_\_\_\_.

**3**  **15.** U odgovarajuća polja na karti upiši slova za sljedeće **brazilske gradove** (dva polja su višak): **B** - Belem **R** - Rio de Janeiro **S** - Sao Paulo

**U SLJEDEĆIH ŠEST ZADATKA POVEŽI PAROVE UPISIVANJEM SLOVA NA CRTU ISPRED PONUĐENIH ODGOVORA. TRI CRTE MORAJU OSTATI PRAZNE.**

**2**  **16.** Navedena objašnjenja međunarodnih organizacija pridruži njihovim skraćenim nazivima.

**A)** Organizacija UN-a za prehranu i poljoprivredu **B)** Organizacija UN-a za pomoć i potporu izbjeglicama

\_\_\_ UNICEF \_\_\_ WHO \_\_\_ UNHCR \_\_\_ FAO \_\_\_ UNESCO

**2**  **17.** Navedene milijunske gradove Monsunske Azije pridruži imenima država u kojima se nalaze.

**A)** Manila **B)** Bangkok (Krung Thep)

\_\_\_ Tajland \_\_\_ Vijetnam \_\_\_ Malezija \_\_\_ Mijanmar (Burma) \_\_\_ Filipini

**2**  **18.** Navedene geografske položaje afričkih jezera pridruži njihovim imenima.

**A)** Akumulacijsko jezero na rijeci Nil **B)** Akumulacijsko jezero na rijeci Zambezi

\_\_\_ Turkana \_\_\_ Kivu \_\_\_ Kariba \_\_\_ Nasser \_\_\_ Albertovo jezero

**2**  **19.** Navedene geografske položaje američkih gradova pridruži njihovim imenima.

**A)** Grad na ušću rijeke Mississippi **B)** Grad uz jezero Michigan

\_\_\_ Detroit \_\_\_ Dallas \_\_\_ Houston \_\_\_ Chicago \_\_\_ New Orleans

**2**  **20.** Navedene nacionalne parkove pridruži imenima saveznih država SAD-a u kojima se nalaze.

**A)** NP Everglades **B)** NP Death Valley (Dolina smrti)

\_\_\_ Florida \_\_\_ Texas \_\_\_ Nevada \_\_\_ California \_\_\_ Oregon

**2**  **21.** Navedene prirodne znamenitosti Južne Amerike pridruži imenima država u kojima se nalaze.

**A)** Vodopad Angel - najviši vodopad na svijetu (979m) **B)** Vodopadi Iguazu - 275 slapova dužine 2,7 km

\_\_\_ Ekvador \_\_\_ Čile \_\_\_ Venezuela \_\_\_ Kolumbija \_\_\_ Argentina

**U SVAKOM OD SLJEDEĆA DVA ZADATKA TRI SU POGREŠNA POJMA. ZAOKRUŽI IH U TEKSTU, UPIŠI U TABLICU TE PORED NJIH NAPIŠI ISPRAVNE POJMOVE.**

3

22. Pažljivo pročitaj tekst o **gustoći naseljenosti stanovništva** i riješi zadatak kao što je napisano u napatku.

*Gustoća naseljenosti stanovništva je udio stanovnika po četvornom kilometru. Zemlja je neravnomjerno naseljena. Jedini kontinent bez stalnog stanovništva je Antarktika. Najgušće naseljeni kontinent je Europa, a najrjeđe naseljeni kontinent je Južna Amerika.*

POGREŠAN POJAM	ISPRAVAN POJAM

3

23. Pažljivo pročitaj tekst o **Tarimskoj zavali** i riješi zadatak kao što je napisano u napatku.

*Tarimska zavala je smještena u središnjoj Aziji i sastavni je dio teritorija Mongolije. Zavala je omeđena planinskim lancima, a planinski lanac koji predstavlja sjevernu granicu zavale je Hindukuš. Tarimska zavala je izrazito suh prostor u kojem je nastala pustinja Kizilkum.*

POGREŠAN POJAM	ISPRAVAN POJAM

**SLJEDEĆA TRI ZADATKA RIJEŠI UZ POMOĆ PRILOŽENIH FOTOGRAFIJA.**

3

24. Fotografija prikazuje jednu od najpoznatijih prirodnih znamenitosti Australije. Na linije napiši **aboridžinsko** i **englesko ime** prirodne znamenitosti, te **ime reljefne cjeline Australije** u kojoj se nalazi.

- **aboridžinsko ime:** \_\_\_\_\_
- **englesko ime:** \_\_\_\_\_
- **reljefna cjelina:** \_\_\_\_\_



2

25. Ledeni blok koji pluta morem, a nastaje odlamanjem od priobalnih kopnenih ledenjaka, naziva se \_\_\_\_\_.

Ledena masa koja pluta morem, a nastaje lomljenjem morskog leda, naziva se \_\_\_\_\_.



2

26. Zaokruži slova uz imena **dvaju morskih prolaza** u kojima se može snimiti ovakva fotografija:

- a) Bassov prolaz    b) prolaz Palk    c) Drakeov prolaz    d) Beringov prolaz    e) Torresov prolaz

**U SVAKOM OD SLJEDEĆA ČETIRI ZADATKA DVA SU ODGOVORA TOČNA. ZAOKRUŽI SLOVA UZ TOČNE ODGOVORE.**

2

27. Među navedenima, **zanimanja kvartarnog sektora** su:

- a) postolar    b) bankar    c) policajac    d) kuhar    e) sudac

2

28. Među navedenima, afričke države u kojima je zastupljena **sredozemna klima** su:

- a) Alžir    b) Nigerija    c) Južna Afrika    d) Etiopija    e) Senegal

2

29. Među navedenima, afričke države u kojima je **portugalski jezik** službeni su:

- a) Somalija    b) Angola    c) Mozambik    d) Kamerun    e) Gana

2

30. Među navedenim otocima i otočnim skupinama, u **Polineziji** se nalaze:

- a) Fiji    b) Tahiti    c) Marijani    d) Karolini    e) Samoa