

20. ŽUPANIJSKO NATJECANJE IZ GEOGRAFIJE 2013. GODINE

Razred ili kategorija natjecanja: **7. razred**

Zaporka

--	--	--	--	--

Broj postignutih bodova _____ / **70**

Potpis članova Županijskog povjerenstva

1. _____
2. _____
3. _____

Mjesto i nadnevak: _____

Za rješavanje zadataka predviđeno je 60 minuta.

Test se rješava kemijskom olovkom s plavom tintom koja se ne briše. Uporaba obične olovke i crvene ili neke druge boje tinte (osim plave) rezultira diskvalifikacijom učenika.

Pri rješavanju testa treba primijeniti jezičnu normu standardnoga hrvatskoga jezika, posebice treba poštivati pravopisna pravila o pisanju velikoga i maloga početnoga slova geografskih imena. Za pisanje geografskih imena u testovima i praktičnim radovima primjenjuje se *Popis geografskih imena* izrađen za potrebe natjecanja.

Odgovori učenika moraju biti čitljivo napisani pisanim slovima, osim u zadacima u kojima je odgovor jedno slovo.

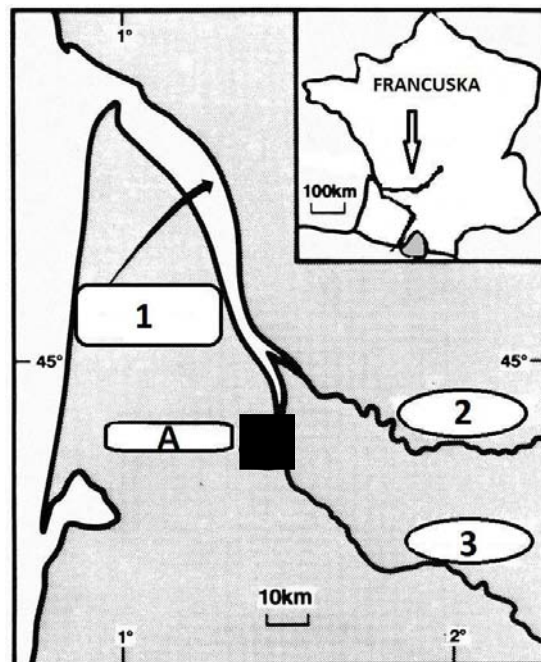
Za vrijeme testiranja ne smije se koristiti ništa osim navedenoga pribora za pisanje. Ova odredba podrazumijeva da natjecatelji ne smiju kod sebe (na sebi, ispod, u svojoj odjeći i slično) imati predmete koji na bilo koji način mogu dovesti u sumnju pravilno provođenje natjecanja. Učenici se ne smiju služiti atlasom, zidnom kartom ni računalom. Kartografski i grafički prilozi nužni za rješavanje zadataka sastavni su dio testa.

Učenicima se dopušta pisanje po marginama ispitnog materijala bez oduzimanja bodova i/ili diskvalifikacije.

Potpuno ispravno riješeni zadaci, prema uputi za rješavanje vrednuju se s jednim, dva ili tri boda. U djelomično ispravno riješenim zadacima boduju se ispravno riješene čestice, ako nije bilo korekcije odgovora u tim česticama. Netočno riješeni zadaci i naknadno ispravljeni odgovori te odgovori koji su pisani tiskanim slovima ili kombinacijom tiskanih i pisanih slova, kao i odgovori u zagradama ne vrednuju se.

SLJEDEĆA ČETIRI ZADATKA RIJEŠI UZ POMOĆ PRILOŽENE GEOGRAFSKE KARTE DIJELA FRANCUSKE.

- 2** 1. Ime rijeke na karti označene brojem 2 je _____, a ime rijeke na karti označene brojem 3 je _____.
- 2** 2. Potapanjem riječnog ušća morem nastaje _____ (upiši tip zaljeva), a ime ljevkastog ušća na slici označenog brojem 1 je _____.
- 2** 3. Ime luke na karti označene crnim kvadratićem i slovom A je _____, a ta luka je industrijsko središte francuske regije _____ (upiši puni naziv strane svijeta).
- 3** 4. Rijeka na karti označena brojem 3 izvire u mladim planinama koje nazivamo _____, a njihovim padinama prolazi granica između Francuske, _____ i _____ (upiši imena država).

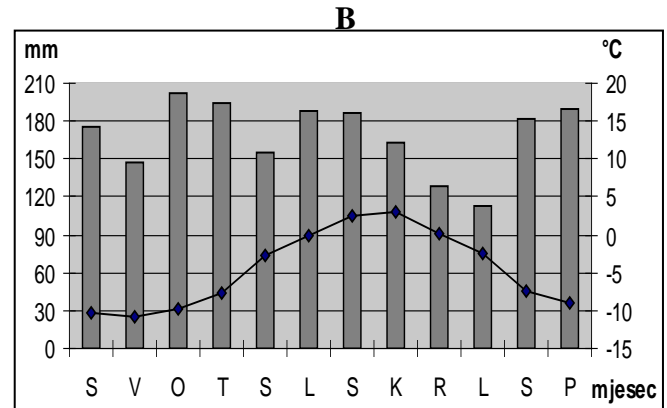
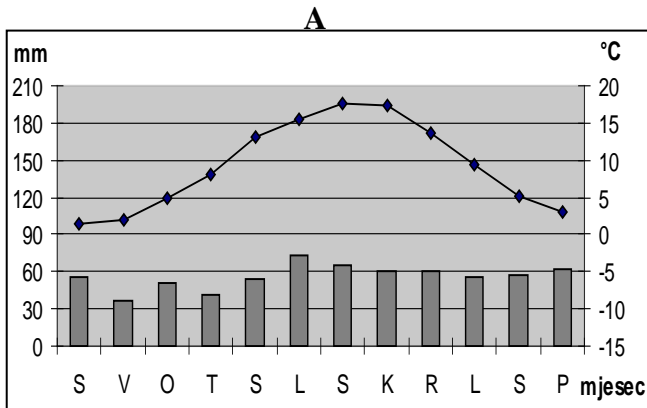


U SLJEDEĆIH ŠEST ZADATAKA SAMO JE JEDAN TOČAN ODGOVOR. ZAOKRUŽI SLOVO ISPRED TOČNOG ODGOVORA.

- 1** 5. Koji od navedenih naroda svoju zemlju nazivaju Suomi?
 a) Danci b) Finci c) Norvežani d) Šveđani
- 1** 6. Koje je od navedenih skijališta u Austriji?
 a) Garmisch-Partenkirchen b) Kronplatz c) Schladming d) Wengen
- 1** 7. Koji je od navedenih naroda najbrojnija nacionalna manjina u Slovačkoj?
 a) Česi b) Mađari c) Poljaci d) Ukrajinci
- 1** 8. Koji je od navedenih gradova najveće i najstarije industrijsko središte Slovenije?
 a) Jesenice b) Koper c) Ljubljana d) Maribor
- 1** 9. Koje je od navedenih reljefnih uzvišenja geološki najmlađeg postanka?
 a) Ardeni b) Beskidi c) Rudna gora d) Vosges
- 1** 10. Koji je od navedenih gradova morska luka u Ujedinjenom Kraljevstvu?
 a) Birmingham b) Leeds c) Liverpool d) Manchester

SLJEDEĆIH PET ZADATKA RIJEŠI UZ POMOĆ DIJAGRAMA I PRILOŽENIH TABLICA.

3 11. Navedene podatke upiši ispod odgovarajućeg klimatskog dijagrama (svaki podatak upotrijebi samo jednom): **4 m**; **Zugspitze**; **47°25' sjev. od ekvatora**; **53°03' sjev. od ekvatora**; **2960 m**; **Bremen**



mjerna postaja: _____
 nadmorska visina: _____
 udaljenost od ekvatora: _____

2 12. Analiziraj klimatske dijagrame u 11. zadatku i dopuni tablice u ovom zadatku upisivanjem podataka koji nedostaju u odgovarajuća polja u tablici.

mjeseci	S	V	O	T	S	L	S	K	R	L	S	P
mm	175	148	202	195	155	188	187	163	128	113	182	189
°C	-10,4	-10,9	-9,8	-7,6	-2,6		2,5	2,9	0,2	-2,5	-7,3	-9,1

mjeseci	S	V	O	T	S	L	S	K	R	L	S	P
mm	55	36	51	41	54	73	65	61		55	58	62
°C	1,5	1,9	4,8	8,1	13	15,5	17,5	17,3	13,6	9,5	5,2	2,9

2 13. Godišnje doba s najvećom prosječnom količinom padalina u mjernoj postaji prikazanoj dijagramom **A** je _____ (upiši naziv godišnjeg doba), a godišnje doba s najvećom prosječnom količinom padalina u mjernoj postaji prikazanoj dijagramom **B** je _____ (upiši naziv godišnjeg doba).

2 14. Analiziraj tablice iz 12. zadatka i dijagrame iz 11. zadatka pa dopuni rečenicu.

Na dijagramu **B** najvišu srednju mjesečnu temperaturu zraka ima mjesec _____ (ime mjeseca upiši riječju). U usporedbi s mjesecom s najnižom srednjom mjesečnom temperaturom zraka na dijagramu **A**, ta je temperatura viša za _____ °C.

2 15. Usporedi dijagram **A** i dijagram **B** iz 11. zadatka i dopuni rečenicu.

Mjesec lipanj veću količinu padalina ima na dijagramu _____ (upiši slovo A ili B) dok mjesec studeni višu srednju mjesečnu temperaturu zraka ima na dijagramu _____ (upiši slovo A ili B).

Prostor za računanje

SLJEDEĆIH PET ZADATKA RIJEŠI UZ POMOĆ PRILOŽENE GEOGRAFSKE KARTE EUROPE.

3 16. Upiši slovo **M** na kartu u svaku od tri države Sjeverne Europe koje su parlamentarne monarhije.

2 17. Upiši slovo **B** na kartu u svaku od dvije države Srednje Europe koje imaju obale na Baltičkom moru.

3 18. Upiši slovo **A** na kartu u svaku od dvije države Srednje Europe koje su postale samostalne 1993. godine raspadom

_____.
(*upiši ime države prije raspada*)

2 19. Zaokruži na karti otok u Sredozemnom moru koji pripada Francuskoj. Ime tog otoka je _____.



2 20. Ime zaljeva na karti označenog brojem **1** je _____ zaljev, a ime zaljeva na karti označenog brojem **2** je _____ zaljev.

U SLJEDEĆIH PET ZADATAKA POVEŽI PAROVE UPISIVANJEM SLOVA NA CRTU ISPRED PONUĐENIH ODGOVORA. TRI CRTE MORAJU OSTATI PRAZNE.

2 21. Navedene države pridruži prirodnim bogatstvima koja su za njih značajna.

A) Litva B) Švedska

____ jantar ____ srebro ____ ugljen ____ zlato ____ željezna ruda

2 22. Navedene morske luke pridruži morima na kojima se nalaze.

A) Gdansk B) Narvik

____ Baltičko m. ____ Bijelo m. ____ Irsko m. ____ Norveško m. ____ Sjeverno m.

2 23. Navedene proizvode pridruži državama u kojima su sjedišta kompanija koje ih proizvode.

A) B)



____ Austrija ____ Lihtenštajn ____ Njemačka ____ Slovenija ____ Švicarska

- 2 24. Navedena obilježja pridruži odgovarajućim kanalima.
A) najkraći plovni put između Baltičkog i Sjevernog mora
B) dio najkraćeg plovnog puta između Crnog i Sjevernog mora

___ Kielski k. ___ Korintski k. ___ k. Mittelland ___ k. Rajna-Ems ___ k. Rajna-Majna-Dunav

- 2 25. Navedene međunarodne organizacije pridruži gradovima u kojima se nalaze njihova sjedišta.
A) Crveni križ **B)** NATO

___ Bruxelles ___ Geneve ___ Den Haag ___ Pariz ___ Strasbourg

SLJEDEĆIH PET ZADATKA RIJEŠI UZ POMOĆ PRILOŽENE GEOGRAFSKE KARTE GLAVNIH GRADOVA I VODA DIJELA EUROPE.

- 2 26. Ime glavnog grada na karti označenog crnim pravokutnikom i brojem 1 je _____, a ime rijeke uz koju se razvio je _____.

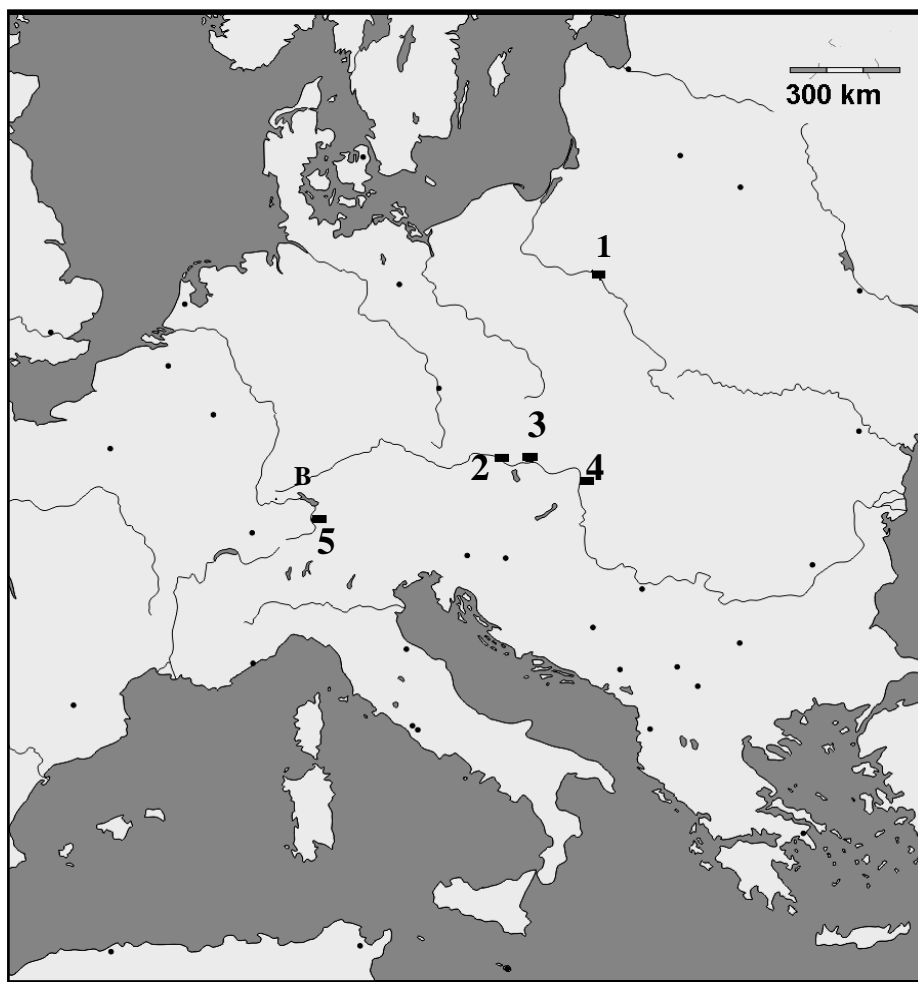
- 3 27. Na crte uz brojeve upiši imena glavnih gradova srednjoeuropskih država na karti označenih crnim pravokutnicima.

2 - _____

3 - _____

4 - _____

- 2 28. Ime glavnog grada na karti označenog crnim pravokutnikom i brojem 5 je _____, a on je glavni grad površinom najmanje alpske države čije je ime _____.



- 2 29. Ime jezera na karti označenog slovom **B** je _____ jezero kroz koje protječe najprometnija europska rijeka _____ (upiši ime).

- 3 30. Jezero na karti označeno slovom **B** dijele tri države: _____, _____ i _____ (upiši imena država).

U SLJEDEĆA DVA ZADATKA POVEŽI DESNI STUPAC S LIJEVIM UPISIVANJEM SLOVA NA CRTU ISPRED POJMOVA U LIJEVOM STUPCU. JEDNO JE SLOVO VIŠAK.

2 31. Navedena obilježja pridruži odgovarajućim njemačkim gradovima.

- | | |
|--------------------------|---------------------------------------|
| _____ Duisburg | A) luka na Baltičkom moru |
| _____ Frankfurt na Majni | B) najprometnija zračna luka Njemačke |
| _____ Hamburg | C) najveća riječna luka na Dunavu |
| _____ Rostock | D) najveća riječna luka na Rajni |
| | E) luka na Sjevernom moru |

2 32. Navedena turistička odredišta pridruži državama u kojima se nalaze.

- | | |
|-----------------|------------------|
| _____ Češka | A) Balaton |
| _____ Danska | B) Bled |
| _____ Mađarska | C) Legoland |
| _____ Slovenija | D) Karlovy Vary |
| | E) Visoke Tatire |

U SVAKOM OD SLJEDEĆA TRI ZADATKA DVA SU ODGOVORA TOČNA. ZAOKRUŽI SLOVA ISPRED TOČNIH ODGOVORA.

2 33. Koji od navedenih otoka i otočnih skupina pripadaju Norveškoj?

- a) Gotland b) Grenland c) Hiiumaa d) Lofoti e) Svalbard

2 34. Koje od navedenih gospodarskih djelatnosti ostvaruju najveći udio u BDP-u Monaka?

- a) promet b) ratarstvo c) ribarstvo d) trgovina e) turizam

2 35. Koji su od navedenih gradova u rudarsko-industrijskom području Ruhrstadt?

- a) Dortmund b) Dresden c) Essen d) Hannover e) Leipzig