

DRŽAVNO NATJECANJE IZ GEOGRAFIJE 2012. GODINE

Razred ili kategorija natjecanja: **8. razred**

Zaporka

--	--	--	--	--

Broj postignutih bodova _____ / 70

Potpis članova povjerenstva

1. _____

2. _____

3. _____

Mjesto i nadnevak: _____

Za rješavanje zadataka predviđeno je 60 minuta.

Test se rješava kemijskom olovkom s plavom tintom koja se ne briše. Uporaba obične olovke i crvene ili neke druge boje tinte (osim plave) rezultira diskvalifikacijom učenika.

Pri rješavanju testa treba primijeniti jezičnu normu standardnoga hrvatskoga jezika, posebice treba poštivati pravopisna pravila o pisanju velikoga i maloga početnoga slova geografskih imena. Geografska imena čije je podrijetlo iz drugih (stranih) jezika moraju biti napisana u izvornom obliku (transkribirana na latinicu), npr. New York, Stuttgart, Loire...

Odgovori učenika moraju biti čitljivo napisani pisanim slovima (osim u zadacima u kojima je odgovor jedno slovo).

Za vrijeme testiranja ne smije se koristiti ništa osim navedenoga pribora za pisanje. Ova odredba podrazumijeva da natjecatelji ne smiju kod sebe (na sebi, ispod, u svojoj odjeći i slično) imati predmete koji na bilo koji način mogu dovesti u sumnju pravilno provođenje natjecanja. Učenici se ne smiju služiti atlasom, zidnom kartom ni računalom. Kartografski i grafički prilozi nužni za rješavanje zadataka sastavni su dio testa.

Potpuno ispravno riješeni zadaci, prema uputi za rješavanje vrednuju se s jednim, dva ili tri boda. U djelomično ispravno riješenim zadacima boduju se ispravno riješene čestice, ako u njima nije bilo korekcije odgovora. Netočno riješeni zadaci i naknadno ispravljeni odgovori te odgovori koji su pisani tiskanim slovima ili kombinacijom tiskanih i pisanih slova ne vrednuju se.

SLJEDEĆA TRI ZADATKA RIJEŠI UZ POMOĆ PRILOŽENOG PLANA I FOTOGRAFIJE DUBROVNIKA.




1. tvrđava Minčeta
2. Franjevačka crkva i samostan
3. crkva Sv. Spasa
4. ulaz u gradske zidine
5. Onofrijeva fontana
6. samostan Sv. Klare
7. tvrđava Bokar
8. crkva Sigurata
9. Sinagoga
10. crkva Sv. Nikole
11. crkva Sv. Sebastijana
12. Dominikanska crkva i samostan
13. crkva Sv. Luke
14. tvrđava Revelin
15. palača Sponza
16. gradski toranj i luža zvonara
17. mala Onofrijeva fontana
18. vijećnica
19. crkva Sv. Vlaha
20. Orlandov stup
21. Knežev dvor
22. katedrala uznesenja Marijina
23. tvrđava Sv. Ivana
24. Džamija
25. Pravoslavna crkva
26. crkva Sv. Ignacija
27. Dom Marina Držića
28. Etnografski muzej Rupe
29. tvrđava Lovrijenac

1 1. Na priloženom planu, udaljenost od bastiona Sv. Petra do bastiona Sv. Margarete iznosi 3 cm. Koliko iznosi ista udaljenost u stvarnosti, izražena u metrima, ako je plan izrađen u mjerilu 1:6000?

Udaljenost u stvarnosti iznosi _____ m.

Prostor za računanje



2 2. Na fotografiji su slovima i crvenim strjelicama označeni dubrovački kulturno-povijesni spomenici. Ime kulturno-povijesnog spomenika označenog slovom A i crvenom strjelicom je _____, a onog slovom B i crvenom strjelicom _____ (upiši pune nazive).

2 3. Na fotografiji ispuni prostor Straduna bojom, a slovom **X** označi katedralu uznesenja Marijina tako da sredina slova X bude na traženoj građevini.

SLJEDEĆI ZADATAK RIJEŠI UZ POMOĆ PRILOŽENE KARTE EUROPE.

3

4.

- ◆ Upiši broj 1 u prostor europske države na karti u koju je nakon Drugog svjetskog rata emigriralo najviše Hrvata na „privremeni rad“.

Ime države je _____.

- ◆ Upiši broj 2 u prostor države na karti u kojoj žive Moliški Hrvati.

Ime države je _____.

- ◆ Upiši broj 3 u prostor višenacionalne države na karti u kojoj su Hrvati konstitutivan narod.

Ime države je _____.



U SLJEDEĆA DVA ZADATKA POVEŽI SLOVA IZNAD FOTOGRAFIJA S TOČNIM ODGOVOROM UPIŠIVANJEM NA CRTU ISPRED PONUĐENIH ODGOVORA. TRI CRTE MORAJU OSTATI PRAZNE.

A)



B)



2

5. Prikazane kipove hrvatskih povijesnih ličnosti poveži s njihovim imenima.

____ knez Domagoj ____ knez Branimir ____ kralj Petar Krešimir IV.

____ kralj Tomislav ____ knez Trpimir

2

6. Prikazane kipove hrvatskih povijesnih ličnosti poveži s imenima gradova u kojima se nalaze.

____ Biograd ____ Šibenik ____ Knin ____ Nin ____ Zadar

U SVAKOM OD SLJEDEĆA TRI ZADATKA JEDAN JE ODGOVOR TOČAN. ZAOKRUŽI SLOVO ISPRED TOČNOG ODGOVORA.

1

7. Među navedenima, otok čiji teritorij je podijeljen između dvije županije je:

a) Pag b) Rab c) Cres d) Lošinj

1

8. Među navedenima, grad s najvećom prosječnom amplitudom između plime i oseke je:

a) Korčula b) Primošten c) Senj d) Umag

1 **9.** Među navedenima, turistička regija Primorske Hrvatske u kojoj se nalazi najveći broj kulturno-povijesnih spomenika RH s UNESCO-ovog popisa svjetske kulturne baštine je:

- a) Istarska b) Sjevernodalmatinska c) Srednjodalmatinska d) Južnodalmatinska

U SVAKOM OD SLJEDEĆA ČETIRI ZADATAKA DVA SU ODGOVORA TOČNA. ZAOKRUŽI SLOVA ISPRED TOČNIH ODGOVORA.

2 **10.** Među navedenima, županije koje imaju kopnenu granicu s dvije susjedne države su:

- a) Istarska b) Dubrovačko-neretvanska c) Virovitičko-podravska
d) Karlovačka e) Varaždinska

2 **11.** Među navedenima, speleološki objekti koje se nalaze u Gorskom kotaru su:

- a) Baredine b) Veternica c) Lokvarka d) Vrelo e) Cerovačke spilje

2 **12.** Među navedenima, prijevoji koji se nalaze na Velebitu su:

- a) Gornje Jelenje b) Banska vrata c) Oštarijska vrata d) Delnička vrata e) Veliki Alan

2 **13.** Među navedenima, centri zdravstveno-lječilišnog turizma koji se nalaze u Hrvatskom zagorju su:

- a) Tuheljske toplice b) toplice Topusko c) Stubičke toplice
d) Bizovačke toplice e) toplice Lipik

U SVAKOM OD SLJEDEĆA DVA ZADATKA TRI SU POGREŠNA POJMA. ZAOKRUŽI IH U TEKSTU, UPIŠI U TABLICU TE PORED NJIH UPIŠI ISPRAVNE POJMOVE.

3 **14.** Pažljivo pročitaj tekst o Velebitu i riješi zadatak kao što je napisano u napatku.

Velebit je najdulja hrvatska planina dinarskog smjera pružanja. Najviši vrh Velebita je Sveti Jure čija visina iznosi 1757 m. UNICEF je 1978. godine proglasio cjelokupni prostor Velebita rezervatom biosfere. Na Velebitu se nalaze dva nacionalna parka. Strogi rezervat Hajdučki i Rožanski kukovi nalazi se u sastavu NP Paklenica.

pogrešan pojam	ispravan pojam

3 **15.** Pažljivo pročitaj tekst o sljevovima RH i riješi zadatak kao što je napisano u naputku.

Sljev je kopneni prostor s kojeg rijeke teku prema određenom moru ili jezeru. Rijeke RH pripadaju crnomorskom i jadranskom sljevu. Granica između dva sljeva se naziva porječje. Granica između sljevova u Hrvatskoj se nalazi na prostoru Panonske Hrvatske. Ako uzmemo u obzir cjelokupnu duljinu rijeke koje dijelom svog toka teku Hrvatskom, najdulja rijeka crnomorskog sljeva je Dunav, a jadranskog Cetina.

pogrešan pojam	ispravan pojam

U SLJEDEĆA DVA ZADATKA POVEŽI SREDNJI I DESNI STUPAC S LIJEVIM UPISIVANJEM JEDNOG SLOVA I JEDNOG BROJA NA CRTU ISPRED POJMOVA U LIJEVOM STUPCU. JEDNO SLOVO I JEDAN BROJ SU VIŠAK.

3 **16.** Poveži trase cesta i naselja kroz koje su prolazile s navedenim nazivima cesta.

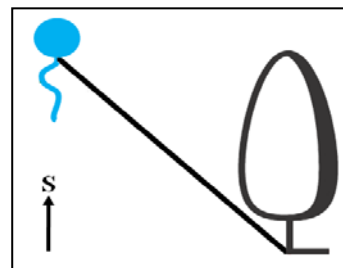
- | | | |
|-------------------------|------------------------|------------|
| _____ Jozefinska cesta | A) Karlovac-Bakar | 1) Brinje |
| _____ Lujzijanska cesta | B) Karlovac-Crikvenica | 2) Jasenak |
| _____ Karolinska cesta | C) Karlovac-Rijeka | 3) Fužine |
| | D) Karlovac-Senj | 4) Lokve |

3 **17.** Poveži kulturne manifestacije i gospodarska područja sa županijama u kojima se odvijaju i nalaze.

- | | | |
|-------------------------------------|--------------------------|-----------------------------------|
| _____ Požeško-slavonska županija | A) Vinkovačke jeseni | 1) Ribnjaci Jasinje |
| _____ Osječko-baranjska županija | B) Zlatne žice Slavonije | 2) vinogradarski kraj oko Erduta |
| _____ Vukovarsko-srijemska županija | C) Špancirfest | 3) vinogradarski kraj oko Kutjeva |
| | D) Đakovački vezovi | 4) Spačvanska šuma |

SLJEDEĆA TRI ZADATKA RIJEŠI UZ POMOĆ PRILOŽENE SKICE I FOTOGRAFIJA.

2 **18.** Azimut određen punom crtom od izvora prema osamljenom bjelogoričnom drvetu iznosi _____, a od osamljenog bjelogoričnog drveta prema izvoru iznosi _____.



1 **19.** Na fotografiji je prikazan krški fenomen s otoka Biševa.

Njegovo ime je _____.



- 2** **20.** Tip izvora karakterističan za krški reljef prikazan na slici zove se _____. Takav tip izvora ima rijeka jadranskog slijeva čiji se izvor nalazi u podnožju Dinare, protječe kroz Sinjsko polje, a na njenom ušću nastao je grad Omiš. Ime rijeke je _____.



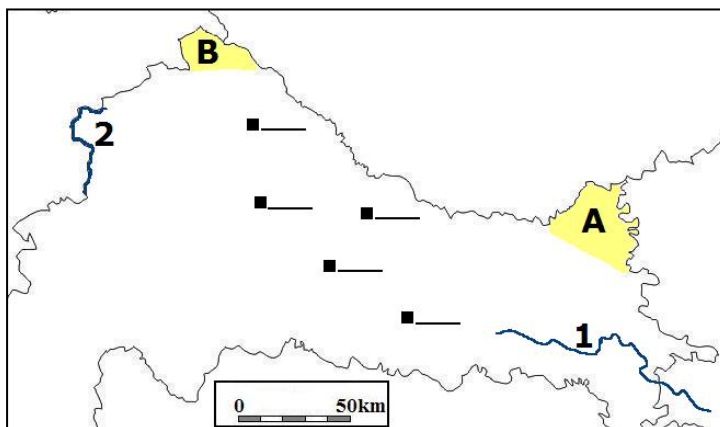
U SLJEDEĆIH ŠEST ZADATAKA DOPUNI REČENICE.

- 3** **21.** Županije Republike Hrvatske koje imaju 10 i više gradova su: _____, _____ i _____.
- 2** **22.** Proces napuštanja sela kao mjesta stanovanja naziva se _____, a proces napuštanja poljoprivrede kao zanimanja naziva se _____.
- 2** **23.** Najjužniji nacionalni park u Republici Hrvatskoj je NP _____, a najsjeverniji nacionalni park Republici Hrvatskoj je NP _____.
- 2** **24.** Najistočniji park prirode u Republici Hrvatskoj je PP _____, a najzapadniji park prirode u Republici Hrvatskoj je PP _____.
- 1** **25.** Ime države, članice EU, čiji je parlament prvi ratificirao (odobrio) ugovor Republike Hrvatske o pristupanju u Europsku uniju je _____.
- 2** **26.** Uzgoj morskih organizama zbog dobivanja hrane naziva se _____. Morski zaljev u Dubrovačko-neretvanskoj županiji u kojem se nalazi jedno od najznačajnijih uzgajališta školjaka u Jadranskom moru zove se _____.

SLJEDEĆA TRI ZADATKA RIJEŠI UZ POMOĆ PRILOŽENE KARTE PANONSKE HRVATSKE.

- 2** **27.** Na karti su brojevima označene rijeke. Brojem 1 označena je rijeka _____, a brojem 2 _____.

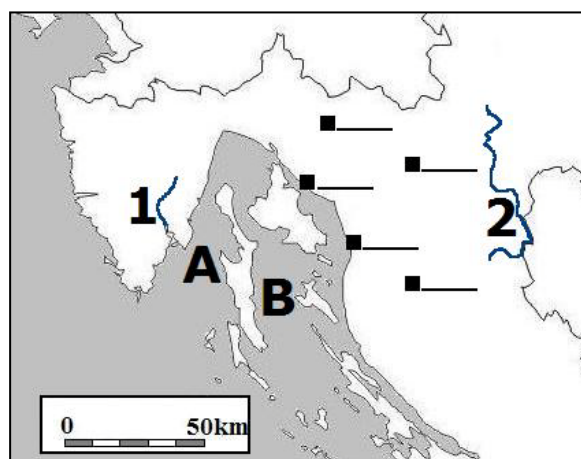
- 2** **28.** Na karti su slovima označene regionalne cjeline. Ime regionalne cjeline označene slovom A je _____, a one slovom B _____.



- 2** **29.** Na odgovarajuće crte uz crne kvadratiće na karti upiši navedena slova za sljedeće gradove (tri kvadratića su višak): **D** - Daruvar **V** – Virovitica

SLJEDEĆA TRI ZADATKA RIJEŠI UZ POMOĆ PRILOŽENE KARTE GORSKE HRVATSKE I SJEVERNOG DIJELA PRIMORSKE HRVATSKE.

- 2** **30.** Na karti su brojevima označene rijeke.
Brojem 1 označena je rijeka _____,
a brojem 2 _____.

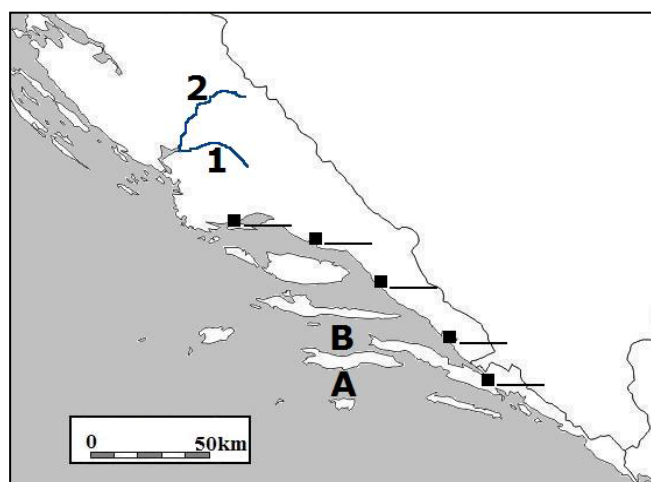


- 2** **31.** Na karti su slovima označeni morski kanali.
Na crte pored slova upiši njihova imena:
A - _____
B - _____

- 2** **32.** Na odgovarajuće crte uz crne kvadratiće na karti upiši navedena slova za sljedeće gradove
(tri kvadratića su višak): S - Senj O - Ogulin

SLJEDEĆA TRI ZADATKA RIJEŠI UZ POMOĆ PRILOŽENE KARTE JUŽNOG DIJELA PRIMORSKE HRVATSKE.

- 2** **33.** Na karti su brojevima označene rijeke.
Brojem 1 označena je rijeka _____,
a brojem 2 _____.



- 2** **34.** Na karti su slovima označeni morski kanali.
Na crte pored slova upiši njihova imena:
A - _____
B - _____

- 2** **35.** Na odgovarajuće crte uz crne kvadratiće na karti upiši navedena slova za sljedeće gradove
(tri kvadratića su višak): P - Ploče O - Omiš