

20. DRŽAVNO NATJECANJE IZ GEOGRAFIJE 2013. GODINE

Razred ili kategorija natjecanja: 8. razred

Zaporka

--	--	--	--	--

Broj postignutih bodova ____ / 70

Potpis članova povjerenstva

1. _____

2. _____

3. _____

Mjesto i nadnevak: _____

Za rješavanje zadataka predviđeno je 60 minuta.

Test se rješava kemijskom olovkom s plavom tintom koja se ne briše. Uporaba obične olovke i crvene ili neke druge boje tinte (osim plave) rezultira diskvalifikacijom učenika.

Pri rješavanju testa treba primijeniti jezičnu normu standardnoga hrvatskoga jezika, posebice treba poštivati pravopisna pravila o pisanju velikoga i maloga početnoga slova geografskih imena. Za pisanje geografskih imena u testovima i praktičnim radovima primjenjuje se *Popis geografskih imena* izrađen za potrebe natjecanja.

Odgovori učenika moraju biti čitljivo napisani pisanim slovima, osim u zadacima u kojima je odgovor jedno slovo.

Za vrijeme testiranja ne smije se koristiti ništa osim navedenoga pribora za pisanje. Ova odredba podrazumijeva da natjecatelji ne smiju kod sebe (na sebi, ispod, u svojoj odjeći i slično) imati predmete koji na bilo koji način mogu dovesti u sumnju pravilno provođenje natjecanja. Učenici se ne smiju služiti atlasom, zidnom kartom ni računalom. Kartografski i grafički prilozi nužni za rješavanje zadataka sastavni su dio testa.

Učenicima se dopušta pisanje po marginama ispitnog materijala bez oduzimanja bodova i/ili diskvalifikacije.

Potpuno ispravno riješeni zadaci, prema uputi za rješavanje vrednuju se s jednim, dva ili tri boda. U djelomično ispravno riješenim zadacima boduju se ispravno riješene čestice, ako nije bilo korekcije odgovora u tim česticama. Netočno riješeni zadaci i naknadno ispravljeni odgovori te odgovori koji su pisani tiskanim slovima ili kombinacijom tiskanih i pisanih slova, kao i odgovori u zagradama ne vrednuju se.

**U SVAKOM OD SLJEDEĆA TRI ZADATKA JEDAN JE TOČAN ODGOVOR.
ZAKRUŽI SLOVO UZ TOČAN ODGOVOR.**

- 1** 1. Među navedenim naseljima, najveću godišnju insolaciju ima:
a) Karlovac b) Zadar c) Krk d) Vis
- 1** 2. Među navedenim biljnim vrstama rasprostranjenim u Primorskoj Hrvatskoj, zimzelena vrsta je:
a) bijeli grab b) bukva c) hrast medunac d) hrast crnika
- 1** 3. Među navedenima, najdulja rijeka Primorske Hrvatske kojoj je cjelokupan tok u RH je:
a) Zrmanja b) Cetina c) Krka d) Neretva

**U SVAKOM OD SLJEDEĆIH PET ZADATAKA DVA SU TOČNA ODGOVORA.
ZAKRUŽI SLOVA UZ TOČNE ODGOVORE.**

- 2** 4. Među navedenim pojmovima, smeđom bojom na topografskim kartama mjerila 1:25 000 označeni su:
a) bunar b) ponikva c) močvara d) izohipsa e) crnogorična šuma
- 2** 5. Među navedenim rijekama, ponornice su:
a) Ričica b) Drežnica c) Ombla d) Rječina e) Jadro
- 2** 6. Među navedenim jezerima, kriptodepresije su:
a) Plitvička jezera b) Kopačevsko jezero c) Vransko jezero na Cresu
d) Vransko jezero kod Biograda e) Peručko jezero
- 2** 7. Među navedenima, područja RH koja su u 2011. godini proglašena regionalnim parkovima su:
a) Petrova gora b) Glina-Kupa c) Moslavačka gora d) Požeška kotlina e) Mura-Drava
- 2** 8. Među navedenim dvorcima i utvrdama, na teritoriju Hrvatskog zagorja su:
a) Miljana b) Modruš c) Pejačević d) Dubovac e) Trakošćan

**U SLJEDEĆA DVA ZADATKA POVEŽI SREDNJI I DESNI STUPAC S LIJEVIM
UPISIVANJEM PRIPADAJUĆEG SLOVA I BROJA NA CRTU ISPRED POJMOVA
U LIJEVOM STUPCU. JEDNO SLOVO I JEDAN BROJ SU VIŠAK.**

- 3** 9. Poveži uzroke migracija Hrvata i države s najvećim brojem useljenih Hrvata s razdobljima emigracija.
- | | | |
|-----------------------------------|----------------------------------|---------------------------------------|
| _____ 15. do 18. stoljeće | A - bolest vinove loze | 1 - Habsburška Monarhija |
| _____ kraj 19. stoljeća | B - „privremeni rad“ | 2 - Kanada |
| _____ druga polovica 20. stoljeća | C - Osmanlijska osvajanja | 3 - Sjedinjene Američke Države |
| | D - bolest krumpira | 4 - Savezna Republika Njemačka |
- 3** 10. Poveži današnja i rimska imena naselja Panonske Hrvatske s odgovarajućom lokacijom industrijskog poduzeća.
- | | | |
|----------------------------------------------------|---------------------------|---------------------|
| _____ kemijska industrija „Saponia“ | A - Slavonski Brod | 1 - Cibalae |
| _____ metaloprerađivačka industrija „Đuro Đaković“ | B - Osijek | 2 - Siscia |
| _____ drvena industrija „Spačva“ | C - Sisak | 3 - Marsonia |
| | D - Vinkovci | 4 - Mursa |

U SLJEDEĆA ČETIRI ZADATKA POVEŽI PAROVE UPISIVANJEM SLOVA NA CRTU ISPRED PONUĐENIH ODGOVORA. TRI CRTE MORAJU OSTATI PRAZNE.

2

11. Navedene opise postignuća poveži s imenima poznatih hrvatskih ličnosti.

A) autor teksta hrvatsku himne

B) uglazbio hrvatsku himnu

_____ Petar Preradović

_____ Ljudevit Gaj

_____ Josip Runjanin

_____ Vatroslav Lisinski

_____ Antun Mihanović

2

12. Navedene gradove poveži sa županijama u kojima se nalaze.

A) Makarska

B) Obrovac

_____ Ličko-senjska

_____ Zadarska

_____ Šibensko-kninska

_____ Splitsko-dalmatinska

_____ Dubrovačko-neretvanska

2

13. Navedene gradove poveži sa županijama u kojima se nalaze.

A) Nova Gradiška

B) Slatina

_____ Virovitičko-podravska

_____ Osječko-baranjska

_____ Požeško-slavonska

_____ Brodsko-posavska

_____ Bjelovarsko-bilogorska

2

14. Navedene opise naselja poveži s imenima naselja.

A) ribarsko središte na Dugom otoku

B) središte za uzgoj i preradu ribe na Braču

_____ Postira

_____ Punat

_____ Sali

_____ Pučišća

_____ Kali

U SLJEDEĆEM ZADATKU TRI SU POGREŠNA POJMA. PRONAĐI IH U TEKSTU, UPIŠI U TABLICU TE PORED NJIH UPIŠI TOČNE POJMOVE.

3

15. Pažljivo pročitaj tekst o Konavlima i riješi zadatak kao što je napisano u napatku.

Regija Konavle smještena je na krajnjem jugu Republike Hrvatske u uskom pojasu između Jadranskog mora i Kamešnice. Najviše obradivih površina u Konavlima vezano je za područje lesnih pobrđa i udolina na kojima se uzgajaju sredozemne kulture. Konavosko naselje s najviše stanovnika prema Popisu stanovništva 2011. godine je Dubrovnik.

POGREŠAN POJAM	TOČAN POJAM

U SLJEDEĆA DVA ZADATKA DOPUNI REČENICE.

3

16. Imena triju parkova prirode čiji teritoriji predstavljaju granicu sa susjednim državama su

PP _____, PP _____

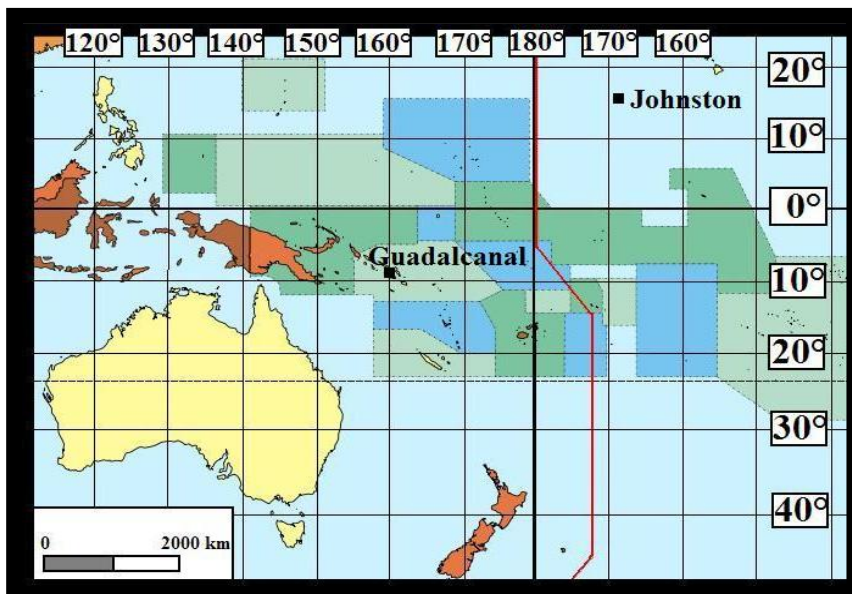
i PP _____.

3

17. Naziv organogene šupljikave stijene od koje su formirana slapišta poput onih na Plitvičkim jezerima je _____. Slapište takvog tipa se nalazi na sutoku rijeke Slunjčice u rijeku _____, na kojem su se smjestile Rastoke, vodeničarsko naselje iz 17. stoljeća. Ime županije u kojoj se nalaze Rastoke je _____ županija.

SLJEDEĆI ZADATAK RIJEŠI UZ POMOĆ PRILOŽENE KARTE AUSTRALIJE I OCEANIJE.

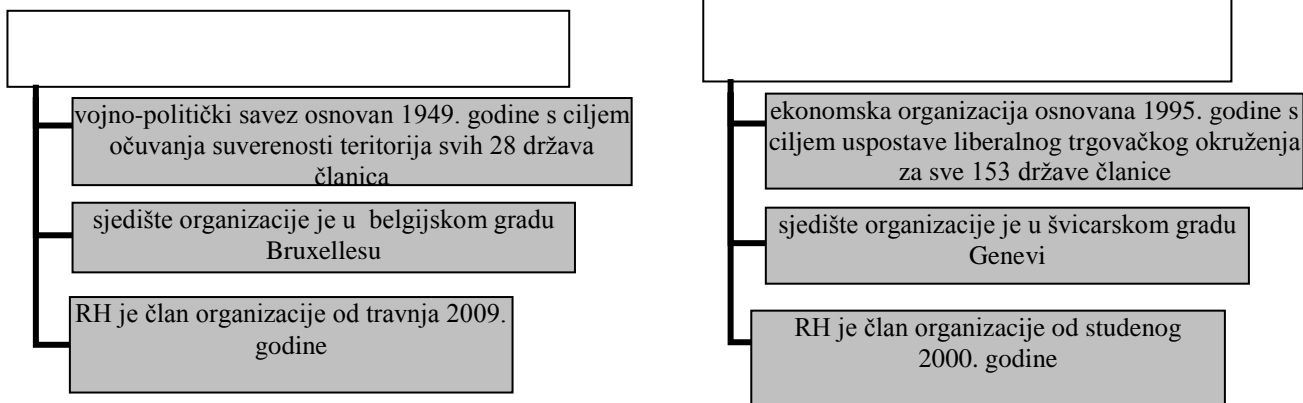
2 18. Odredi na kojim se geografskim koordinatama nalaze otoci Guadalcanal i Johnston.



- **Guadalcanal:** _____ ° _____ geografske širine.
 _____ ° _____ geografske dužine.
- **Johnston:** _____ ° _____ geografske širine.
 _____ ° _____ geografske dužine.

SLJEDEĆI ZADATAK RIJEŠI UPISIVANJEM TRAŽENIH POJMOVA U PRAZNO POLJE ORGANIZACIJSKOG DIJAGRAMA.

2 19. U prazno polje organizacijskog dijagrama upiši kraticu početnih slova izvornog naziva međunarodne organizacije kojoj odgovaraju sva obilježja navedena u sivim poljima.



SLJEDEĆA DVA ZADATKA RIJEŠI UZ POMOĆ PRILOŽENIH FOTOGRAFIJA I CRTEŽA.

2 20. Na crte ispod fotografija upiši ime grada prikazanog na fotografiji.



2

21. Povijesni grb u kruni grba RH označen slovom A predstavlja povijesnu regiju čije je ime _____, a povijesni grb označen slovom B povijesnu regiju čije je ime _____.

SLJEDEĆIH PET ZADATKA RIJEŠI UZ POMOĆ PRILOŽENE TEMATSKE KARTE.

3

22. Na priloženoj karti su rimskim brojevima označeni europski prometni koridori. Uz nazive prometnih pravaca Hrvatske upiši oznaku europskog prometnog koridora čiji su sastavni dio.

- slavonsko-bosansko-neretvanski prometni pravac- _____
- posavski prometni pravac - _____
- Budimpešta-Zagreb-Rijeka - _____

1

23. Ime rijeke koja čini europski prometni koridor broj VII je _____.

1

24. Naziv za dio obalnog mora Republike Hrvatske koji je na karti označen brojem 1 je _____.

1

25. Naziv energenta čija su ležišta označena zatamnjanim površinama i brojem 2 na području Sjevernog Jadrana je _____.

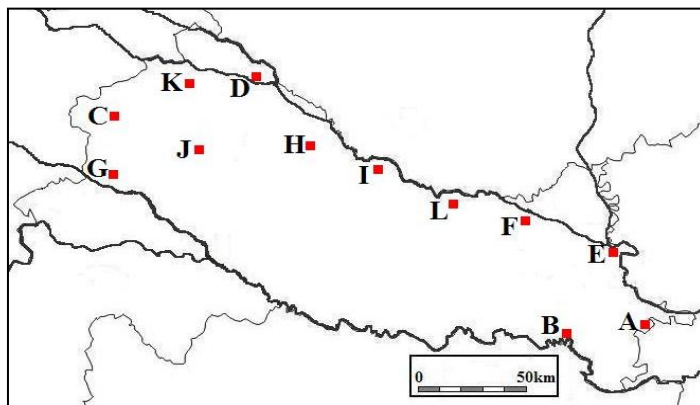
2

26. Ime morskih vrata koja su na priloženoj karti označena brojem 3 je _____ vrata. Imena mora koja povezuju ta morska vrata su Jadransko i _____ more.

5

SLJEDEĆA TRI ZADATKA RIJEŠI UZ POMOĆ PRILOŽENE KARTE PANONSKE HRVATSKE.

27. Ime lokaliteta smještenog u zapadnom dijelu Krapine na kojem su nađeni ostatci neandertalskog čovjeka stari oko 130 000 godina je _____, a na priloženoj karti označen je slovom _____.

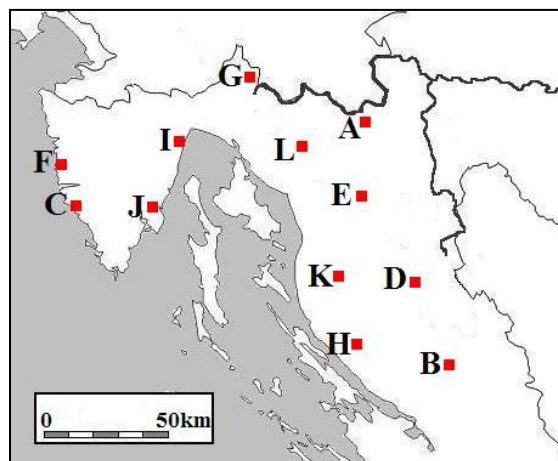


28. Ime posebnog geografsko-botaničkog rezervata smještenog u Podravini koji se još naziva i „Hrvatskom Saharom“ je _____, a na priloženoj karti označen je slovom _____.

29. Ime središta vjerskog turizma smještenog na istoku Hrvatske u kojem se nalazi Svetište Gospe od Utočišta je _____, a na priloženoj karti označeno je slovom _____.

SLJEDEĆA TRI ZADATKA RIJEŠI UZ POMOĆ PRILOŽENE KARTE GORSKE HRVATSKE I DIJELA PRIMORSKE HRVATSKE.

30. Ime najvišeg stalno naseljenog mjesta u RH koje se nalazi na 1060 m nadmorske visine je _____, a na priloženoj karti je označeno slovom _____.

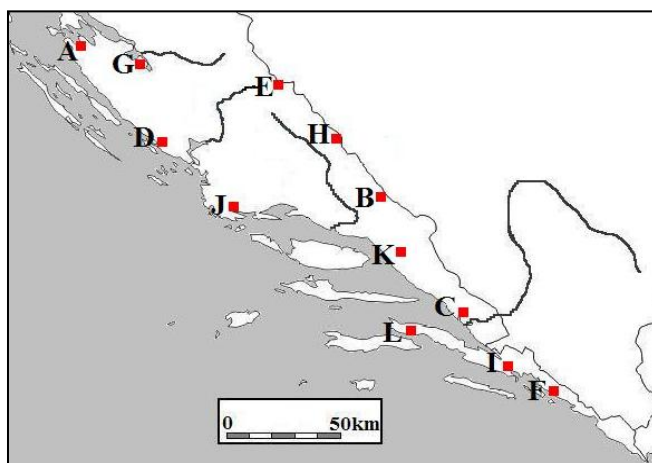


31. Ime naselja u kojem je sagrađen prvi smještajni objekt na hrvatskoj obali, Vila Angiolina (1844. godine), i prvi hotel na hrvatskoj obali, hotel „Kvarner“ (1884. godine) je _____, a na priloženoj karti označeno je slovom _____.

32. Ime ličkog naselja u kojem je smješteno utočište za medvjede je _____ i na priloženoj karti označeno je slovom _____.

SLJEDEĆA TRI ZADATKA RIJEŠI UZ POMOĆ PRILOŽENE KARTE DIJELA PRIMORSKE HRVATSKE.

33. Ime naselja u kojem su smještene starohrvatske crkvice, Sv. Križ i Sv. Nikola, te solana je _____, a na priloženoj karti označeno je slovom _____.



34. Ime dalmatinskog naselja u kojem je smješten istoimeni arboretum je _____, a na priloženoj karti označeno je slovom _____.

35. Ime najvišeg planinskog vrha u Hrvatskoj čija nadmorska visina iznosi 1831 m je _____ i na priloženoj karti označen je slovom _____.